


Участник			Учитель			Результаты участия				
Фамилия	Имя	Отчество	Фамилия	Имя	Отчество	Классобучения	Предмет	Статус участник	Результат	Место
Романенков	Вадим	Александрович	Щерба	Анна	Николаевна	6А	технолог	Победитель	22	1
Куприянов	Игорь	Дмитриевич	Щерба	Анна	Николаевна	6А	технолог	Призер	15	2
Сокол	Максим	Сергеевич	Щерба	Анна	Николаевна	6А	технолог	Призер	14	3
Гусейнов	Магомед	Тарланович	Щерба	Анна	Николаевна	6А	технолог	Призер	14	3
Баимбетов	Давид	Аркадьевич	Щерба	Анна	Николаевна	6А	технолог	Призер	12	4
Масалов	Геннадий	Дмитриевич	Щерба	Анна	Николаевна	6А	технолог	участник	9	5
Смолин	Валерий	Васильевич	Щерба	Анна	Николаевна	6Б	технолог	участник	7	6
Руденко	Сергей	Игоревич	Щерба	Анна	Николаевна	6А	технолог	участник	7	6
Волк	Илья	Константинович	Щерба	Анна	Николаевна	6А	технолог	участник	6	7
Агапов	Роман	Сергеевич	Щерба	Анна	Николаевна	6Б	технолог	участник	6	7
Коробов	Сергей	Игоревич	Щерба	Анна	Николаевна	6Б	технолог	участник	6	7
Манзюк	Семен	Сергеевич	Щерба	Анна	Николаевна	6А	технолог	участник	4	8



ВСЕРОССИЙСКАЯ ОЛИМПИАДА ШКОЛЬНИКОВ

Школьный этап

Технология («Техника и техническое творчество»)

Код:

ТМ65

6 классы

2023 -2024 учебный год.

Теоретическая часть.

Время выполнения – 45 минут.

Задания в тестовой форме.

Баллы:

15

Максимальное количество баллов 20 (по 15 баллов за 15 вопросов и до 5 баллов за творческое задание). Задание считается выполненным, если в нем не допущено ни одной ошибки. Наличие лишнего ответа также считается ошибкой.

+ 1. Отметьте правильный ответ:

Технология-это...

- а. список оборудования для выполнения работы;
- б. знания, наука о преобразовании (обработке) материалов, энергии, информации;
- в. набор чертежей для выполнения работы;
- г. перечень материалов для изготовления изделий.

2. Отметьте правильные ответы:

+ К технологической документации относятся:

- а. фотографии;
- б. технологические карты;
- в. чертежи;
- г. описание изделия.

3. Отметьте правильные ответы:

+ К наиболее мягким породам древесины из перечисленных ниже деревьев относятся:

- а. сосна;
- б. липа;
- в. дуб;
- г. тополь.

+ 4. Укажите правильный порядок изготовления однодетального изделия из древесины, содержащий следующие операции:

- а. зачистка;
 - б. пиление;
 - в. сверление;
 - г. выбор заготовки.
- Г
Б
В
А

+ 5. Назовите три любых ручных инструмента для обработки металла:

напильник, наждачка, сверло

ТМБС

Укажите правильные ответы:

- † 6. К энергетическим машинам относятся:
- а. токарные станки;
 - б. электродвигатель;
 - в. двигатели внутреннего сгорания автомобилей.
 - г. автомобили.

Укажите правильные ответы:

† 7. К механизмам относятся:

- а. электродвигатели;
- б. зубчатые передачи;
- в. обычные слесарные тиски;
- г. паровые машины.

Укажите правильный ответ:

† 8. В вертикально-фрезерном станке для приведения во вращательное движение сверла как правило используется передача:

- а. зубчатая;
- б. ременная;
- в. реечная;
- г. фрикционная.

† 9. Составьте соответствие к требованиям интерьера жилого помещения, выпишите пары: номер и буква:

1. Эргономические <input checked="" type="checkbox"/>	а- требования соблюдаются тогда, когда в доме поддерживается чистота, оборудовано хорошее освещение, зимой не холодно, летом не жарко, а шум с улицы не проникает в помещение
2. Санитарно-гигиенические <input checked="" type="checkbox"/>	б- требования выражаются в совершенстве внутреннего убранства помещения, гармоничном сочетании цвета мебели и стен, наличии предметов художественного оформления, комнатных растений.
3. Эстетические <input checked="" type="checkbox"/>	в- требования заключаются в том, чтобы и взрослым, и детям было комфортно находиться в доме.

1- ; 2- ; 3- .

Укажите правильный ответ:

— 10. Из скольких этапов состоит работа над творческим проектом?

- а. 3
- б. 5
- в. 7
- г. 9

11. Перечислите основные этапы выполнения проекта:

- а) поисковый
- б) технологический
- в) организационный
- г) заключительный
- д) испытательный

12. Заполните таблицу используя слова из предложенного списка.

Лиственные породы	Хвойные породы
дуб	осина
лиственница	лиственница-сосна
берёза	ель
бук	кедр

Слова для справок: осина, лиственница, ель, кедр, берёза, дуб, бук, сосна.

Укажите правильные ответы:

13. Основные инструменты для обработки древесины:

- а) рубанок
- б) ножницы
- в) слесарный молоток
- г) киянка
- д) стамеска
- е) зубило

14. Вещества, которые обладают особым блеском, проводят электрический ток и тепло, намагничиваются, плавятся при сильном нагреве, это металл


15. Наука, изучающая взаимоотношения человека с природой, это

- а. психология
- б. медицина
- в. экология
- г. природоведение

16. Творческое задание.

Для изготовления указки: 4

- а. выберите материал и обоснуйте свой выбор;
- б. выберите размеры заготовки;
- в. нарисуйте эскиз изделия и проставьте размеры;
- г. опишите этапы изготовления и необходимые инструменты на технологической карте;
- д. предложите украшение изделия.



Т-11+4 Пр-7



ВСЕРОССИЙСКАЯ ОЛИМПИАДА ШКОЛЬНИКОВ

Школьный этап

Технология («Техника и техническое творчество»)

Код:

ТМ65

6 классы

2023 -2024 учебный год.

Практическая часть.

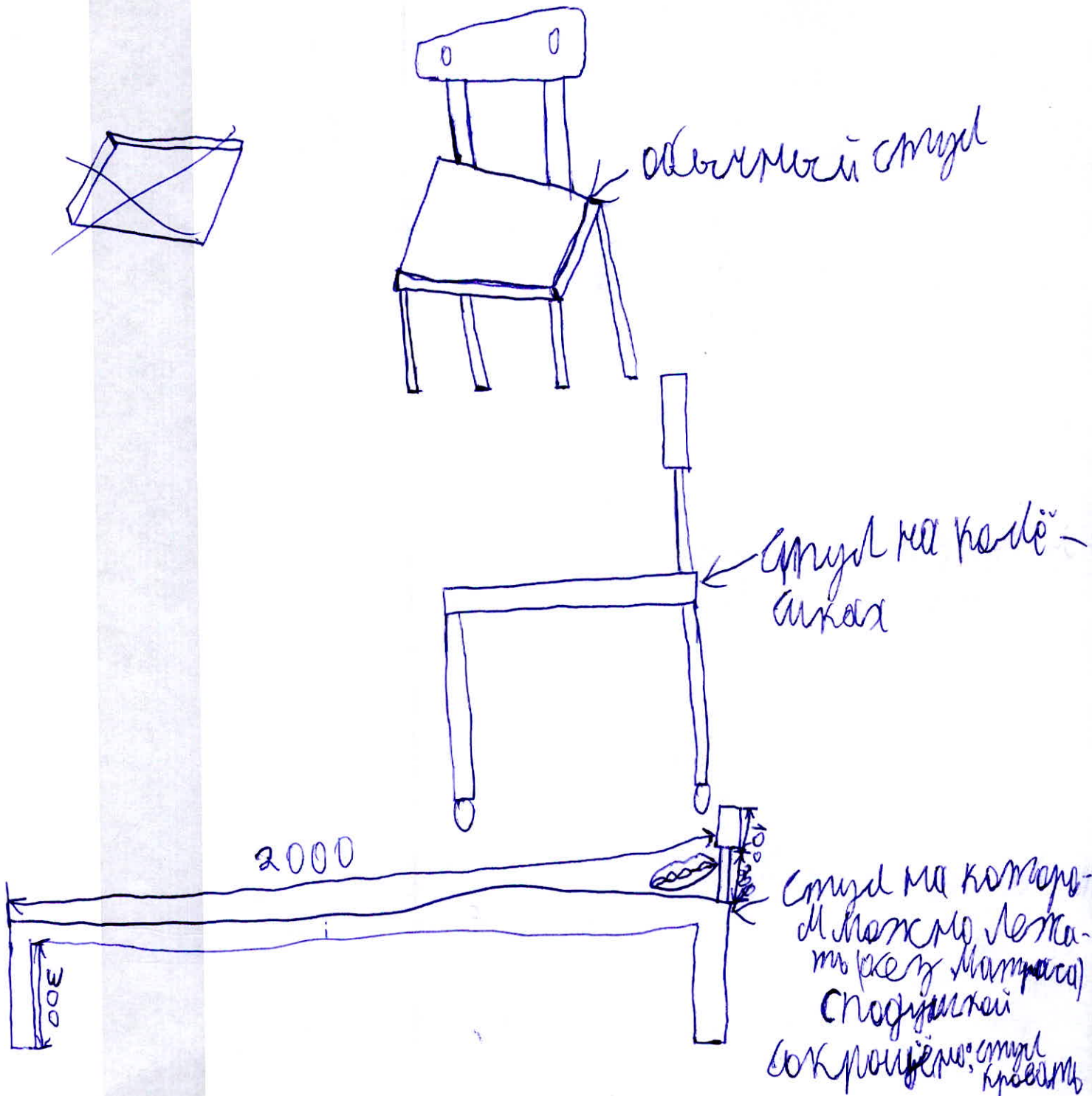
Время выполнения – 45 минут

Баллы:

7

Задание. Разработайте требования к изделию ученический стул, разработайте несколько эскизов, нарисуйте их

Количество баллов - 10 - 7



Председатель жюри: Равищенко И. А. Prof.
Жюри: Дербенева Т. М. Д.
Майорова Е. А. Д.

158

ВСЕРОССИЙСКАЯ ОЛИМПИАДА ШКОЛЬНИКОВ

Школьный этап

Технология («Техника и техническое творчество»)

Код:

6 классы

Баллы:

ТЧ 68

2023 -2024 учебный год.

9

Теоретическая часть.

Время выполнения – 45 минут.

Задания в тестовой форме.

Максимальное количество баллов 20 (по 15 баллов за 15 вопросов и до 5 баллов за творческое задание). Задание считается выполненным, если в нем не допущено ни одной ошибки. Наличие лишнего ответа также считается ошибкой.

+ 1. Отметьте правильный ответ:

Технология-это...

- а. список оборудования для выполнения работы;
- б. знания, наука о преобразовании (обработке) материалов, энергии, информации;
- в. набор чертежей для выполнения работы;
- г. перечень материалов для изготовления изделий.

2. Отметьте правильные ответы:

+ К технологической документации относятся:

- а. фотографии;
- б. технологические карты;
- в. чертежи;
- г. описание изделия.

3. Отметьте правильные ответы:

+ К наиболее мягким породам древесины из перечисленных ниже деревьев относятся:

- а. сосна;
- б. липа;
- в. дуб;
- г. тополь.

+ 4. Укажите правильный порядок изготовления однодетального изделия из древесины, содержащий следующие операции:

- 4 а. зачистка;
- 2 б. пиление;
- 3 в. сверление;
- 1 г. выбор заготовки.

+ 5. Назовите три любых ручных инструмента для обработки металла:

Напильник, шпатель для металла, ножницы по металлу

ТШ 68

Укажите правильные ответы:

6. К энергетическим машинам относятся:

- а. токарные станки;
- б. электродвигатель;
- в. двигатели внутреннего сгорания автомобилей.
- г. автомобили.

Укажите правильные ответы:

7. К механизмам относятся:

- а. электродвигатели;
- б. зубчатые передачи;
- в. обычные слесарные тиски;
- г. паровые машины.

Укажите правильный ответ:

8. В вертикально-фрезерном станке для приведения во вращательное движение сверла как правило используется передача:

- а. зубчатая;
- б. ременная;
- в. реечная;
- г. фрикционная.

9. Составьте соответствие к требованиям интерьера жилого помещения, выпишите пары: номер и буква:

1. Эргономические	а- требования соблюдаются тогда, когда в доме поддерживается чистота, оборудовано хорошее освещение, зимой не холодно, летом не жарко, а шум с улицы не проникает в помещение
2. Санитарно-гигиенические	б- требования выражаются в совершенстве внутреннего убранства помещения, гармоничном сочетании цвета мебели и стен, наличии предметов художественного оформления, комнатных растений.
3. Эстетические	в- требования заключаются в том, чтобы и взрослым, и детям было комфортно находиться в доме.

1- А ; 2- Б ; 3- В .

Укажите правильный ответ:

10. Из скольких этапов состоит работа над творческим проектом?

- а. 3
- б. 5
- в. 7
- г. 9

† 11. Перечислите основные этапы выполнения проекта:

- а. поисковый
- б. технологический
- в. организационный
- г. заключительный
- д. испытательный

12. Заполните таблицу используя слова из предложенного списка.

Лиственные породы	Хвойные породы
Осина	ель
кедр	сосна
береза	дуб
дуб	

Слова для справок: осина, лиственница, ель, кедр, береза, дуб, бук, сосна.

Укажите правильные ответы:

† 13. Основные инструменты для обработки древесины:

- а. рубанок
- б. ножницы
- в. слесарный молоток
- г. киянка
- д. стамеска
- е. зубило

14. Вещества, которые обладают особым блеском, проводят электрический ток и тепло, намагничиваются, плавятся при сильном нагреве, это светодиоды

† 15. Наука, изучающая взаимоотношения человека с природой, это

- а. психология
- б. медицина
- в. экология
- г. природоведение

16. Творческое задание.

Для изготовления указки:

- а. выберите материал и обоснуйте свой выбор; 1
- б. выберите размеры заготовки; 2,3
- в. нарисуйте эскиз изделия и проставьте размеры; 2
- г. опишите этапы изготовления и необходимые инструменты на 4 технологической карте;
- д. предложите украшение изделия. 5

Т-9

Пр-6



ВСЕРОССИЙСКАЯ ОЛИМПИАДА ШКОЛЬНИКОВ

Школьный этап

Технология («Техника и техническое творчество»)

Код:

ТМ 68

6 классы

2023 -2024 учебный год.

Практическая часть.


Время выполнения – 45 минут

Баллы:



6

Задание. Разработайте требования к изделию ученический стул, разработайте несколько эскизов, нарисуйте их

Количество баллов - 10 - 6



Председат. мори Романово И. А. 

Мори: Дербенев И. А. 
Мавринов Е. П. 

ВСЕРОССИЙСКАЯ ОЛИМПИАДА ШКОЛЬНИКОВ

Школьный этап

Технология («Техника и техническое творчество»)

145

Код:

ТМБ10

6 классы

2023 -2024 учебный год.

Теоретическая часть.

Время выполнения – 45 минут.

Задания в тестовой форме.

Баллы:

10

Максимальное количество баллов 20 (по 15 баллов за 15 вопросов и до 5 баллов за творческое задание). Задание считается выполненным, если в нем не допущено ни одной ошибки. Наличие лишнего ответа также считается ошибкой.

+ 1. Отметьте правильный ответ:

Технология-это...

- а. список оборудования для выполнения работы;
- б. знания, наука о преобразовании (обработке) материалов, энергии, информации;
- в. набор чертежей для выполнения работы;
- г. перечень материалов для изготовления изделий.

2. Отметьте правильные ответы:

+ К технологической документации относятся:

- а. фотографии;
- б. технологические карты;
- в. чертежи;
- г. описание изделия.

3. Отметьте правильные ответы:

+ К наиболее мягким породам древесины из перечисленных ниже деревьев относятся:

- а. сосна;
- б. липа;
- в. дуб;
- г. тополь.

+ 4. Укажите правильный порядок изготовления однодетального изделия из древесины, содержащий следующие операции:

- а. зачистка; 4
- б. пиление; 2
- в. сверление; 3
- г. выбор заготовки. 1

+ 5. Назовите три любых ручных инструмента для обработки металла:

наждачная бумага, молоток, дрель

ТМБЮ

Укажите правильные ответы:

- † 6. К энергетическим машинам относятся:
- а. токарные станки;
 - ⓑ. электродвигатель;
 - в. двигатели внутреннего сгорания автомобилей.
 - г. автомобили.

Укажите правильные ответы:

- † 7. К механизмам относятся:
- а. электродвигатели;
 - ⓑ. зубчатые передачи;
 - в. обычные слесарные тиски;
 - г. паровые машины.

Укажите правильный ответ:

- † 8. В вертикально-фрезерном станке для приведения во вращательное движение сверла как правило используется передача:
- а. зубчатая;
 - ⓑ. ременная;
 - в. реечная;
 - г. фрикционная.

- † 9. Составьте соответствие к требованиям интерьера жилого помещения, выпишите пары: номер и буква:

1. Эргономические	а- требования соблюдаются тогда, когда в доме поддерживается чистота, оборудовано хорошее освещение, зимой не холодно, летом не жарко, а шум с улицы не проникает в помещение
2. Санитарно-гигиенические	б- требования выражаются в совершенстве внутреннего убранства помещения, гармоничном сочетании цвета мебели и стен, наличии предметов художественного оформления, комнатных растений.
3. Эстетические	в- требования заключаются в том, чтобы и взрослым, и детям было комфортно находиться в доме.

1-б ; 2-а ; 3-в .

Укажите правильный ответ:

- ✓ 10. Из скольких этапов состоит работа над творческим проектом?
- а. 3
 - ⓑ. 5
 - в. 7
 - г. 9

11. Перечислите основные этапы выполнения проекта:

- а. поисковый
- б. технологический
- в. организационный
- г. заключительный
- д. испытательный

12. Заполните таблицу используя слова из предложенного списка.

Лиственные породы	Хвойные породы
Осина	ель
дуб	кедр
сосна	бук
береза	лиственница

Слова для справок: осина, лиственница, ель, кедр, береза, дуб, бук, сосна.

Укажите правильные ответы:

13. Основные инструменты для обработки древесины:

- а. рубанок
- б. ножницы
- в. слесарный молоток
- г. киянка
- д. стамеска
- е. зубило

14. Вещества, которые обладают особым блеском, проводят электрический ток и тепло, намагничиваются, плавятся при сильном нагреве, это _____

15. Наука, изучающая взаимоотношения человека с природой, это

- а. психология
- б. медицина
- в. экология
- г. природоведение

16. Творческое задание.

Для изготовления указки:

- а. выберите материал и обоснуйте свой выбор;
- б. выберите размеры заготовки;
- в. нарисуйте эскиз изделия и проставьте размеры;
- г. опишите этапы изготовления и необходимые инструменты на технологической карте;
- д. предложите украшение изделия.

Т-10 - П-4



ВСЕРОССИЙСКАЯ ОЛИМПИАДА ШКОЛЬНИКОВ

Школьный этап

Технология («Техника и техническое творчество»)

Код:

ТМ610

6 классы

2023 -2024 учебный год.

Практическая часть.

Время выполнения – 45 минут

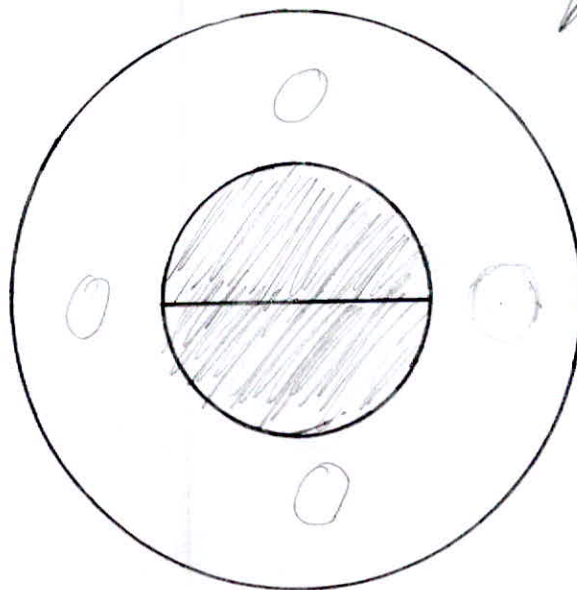
Баллы:

4

Задание. Разработайте требования к изделию ученической стул, разработайте несколько эскизов, нарисуй их


Количество баллов - 10 - 4

ТАБУРЕТ
сверху



Требс. тюрн Решашино кя Раф
Тюрн : Дербешев ГИ АУ
Милошино ЕА ОМЗ

ТМ 6 10



← стороны ▽

"да я уже рисовал"

ВСЕРОССИЙСКАЯ ОЛИМПИАДА ШКОЛЬНИКОВ

Школьный этап

Технология («Техника и техническое творчество»)

Код:

ТМ67

6 классы

2023 -2024 учебный год.

Теоретическая часть.

Время выполнения – 45 минут.

Задания в тестовой форме.

Баллы:

9

Максимальное количество баллов 20 (по 15 баллов за 15 вопросов и до 5 баллов за творческое задание). Задание считается выполненным, если в нем не допущено ни одной ошибки. Наличие лишнего ответа также считается ошибкой.

1. Отметьте правильный ответ:

Технология-это...

- а. список оборудования для выполнения работы;
- б. знания, наука о преобразовании (обработке) материалов, энергии, информации;
- в. набор чертежей для выполнения работы;
- г. перечень материалов для изготовления изделий.

2. Отметьте правильные ответы:

К технологической документации относятся:

- а. фотографии;
- б. технологические карты;
- в. чертежи;
- г. описание изделия.

3. Отметьте правильные ответы:

К наиболее мягким породам древесины из перечисленных ниже деревьев относятся:

- а. сосна;
- б. липа;
- в. дуб;
- г. тополь.

4. Укажите правильный порядок изготовления однодетального изделия из древесины, содержащий следующие операции:

- а. зачистка; 1
- б. пиление; 3
- в. сверление; 4
- г. выбор заготовки. 2

5. Назовите три любых ручных инструмента для обработки металла:

балкарка

ТМБХ

Укажите правильные ответы:

6. К энергетическим машинам относятся:

- а. токарные станки;
- б. электродвигатель;
- в. двигатели внутреннего сгорания автомобилей.
- г. автомобили.

Укажите правильные ответы:

+ 7. К механизмам относятся:

- а. электродвигатели;
- б. зубчатые передачи;
- в. обычные слесарные тиски;
- г. паровые машины.

Укажите правильный ответ:

+ 8. В вертикально-фрезерном станке для приведения во вращательное движение сверла как правило используется передача:

- а. зубчатая;
- б. ременная;
- в. реечная;
- г. фрикционная.

9. Составьте соответствие к требованиям интерьера жилого помещения, выпишите пары: номер и буква:

1. Эргономические	а- требования соблюдаются тогда, когда в доме поддерживается чистота, оборудовано хорошее освещение, зимой не холодно, летом не жарко, а шум с улицы не проникает в помещение
2. Санитарно-гигиенические	б- требования выражаются в совершенстве внутреннего убранства помещения, гармоничном сочетании цвета мебели и стен, наличии предметов художественного оформления, комнатных растений.
3. Эстетические	в- требования заключаются в том, чтобы и взрослым, и детям было комфортно находиться в доме.

1- в ; 2- б ; 3- а .

Укажите правильный ответ:

10. Из скольких этапов состоит работа над творческим проектом?

- а. 3
- б. 5
- в. 7
- г. 9

11. Перечислите основные этапы выполнения проекта:

- а. поисковый
- б. технологический
- в. организационный
- г. заключительный
- д. испытательный

12. Заполните таблицу используя слова из предложенного списка.

Лиственные породы	Хвойные породы
лиственница	ель
кедр	береза
дуб	сосна
осина	

Слова для справок: осина, лиственница, ель, кедр, береза, дуб, бук, сосна.

Укажите правильные ответы:

13. Основные инструменты для обработки древесины:

- а. рубанок
- б. ножницы
- в. слесарный молоток
- г. киянка
- д. стамеска
- е. зубило

14. Вещества, которые обладают особым блеском, проводят электрический ток и тепло, намагничиваются, плавятся при сильном нагреве, это _____

15. Наука, изучающая взаимоотношения человека с природой, это

- а. психология
- б. медицина
- в. экология
- г. природоведение

16. Творческое задание.


Для изготовления указки:

- а. выберите материал и обоснуйте свой выбор;
- б. выберите размеры заготовки;
- в. нарисуйте эскиз изделия и проставьте размеры;
- г. опишите этапы изготовления и необходимые инструменты на технологической карте;
- д. предложите украшение изделия.

Т-5+4 П-5

Манернал: масленаса

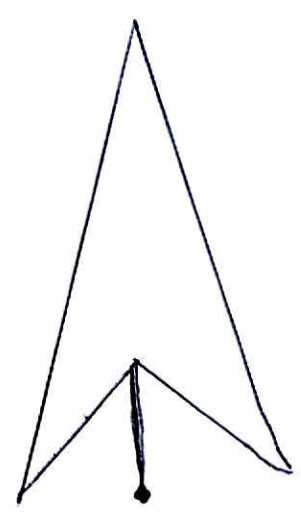
ТМ67 Размери зародилу: гумена ~~6~~³⁰ 200
успина 200

1
Биг селку: 200


Биг сјагу:
масина ^μ 1:10



Биг спрежу



Фане изградњени; Плавне масина
обрабонка, предане опрема, виставна
на програму.

ВСЕРОССИЙСКАЯ ОЛИМПИАДА ШКОЛЬНИКОВ

Школьный этап

Технология («Техника и техническое творчество»)

Код:

ТМ67

6 классы

2023 -2024 учебный год.

Практическая часть.

Время выполнения – 45 минут

Баллы:


6

+5


Задание. Разработайте требования к изделию ученический стул, разработайте несколько эскизов, нарисуй их

Количество баллов - 10


Вид Спереди



Вид Взад



Вид: Сверху



Председатель тира Романенко К.А.
Paul -

Директор: Дербенёва Т.А. Д -
Мамонтова Е.М. ДД

ВСЕРОССИЙСКАЯ ОЛИМПИАДА ШКОЛЬНИКОВ

Школьный этап

Технология («Техника и техническое творчество»)

120

Код:

6 классы

Баллы:

ТШ61

2023 -2024 учебный год.

Теоретическая часть.

8

Время выполнения – 45 минут.

Задания в тестовой форме.

Максимальное количество баллов 20 (по 15 баллов за 15 вопросов и до 5 баллов за творческое задание). Задание считается выполненным, если в нем не допущено ни одной ошибки. Наличие лишнего ответа также считается ошибкой.

† 1. Отметьте правильный ответ:

Технология-это...

- а. список оборудования для выполнения работы;
- б. знания, наука о преобразовании (обработке) материалов, энергии, информации;
- в. набор чертежей для выполнения работы;
- г. перечень материалов для изготовления изделий.

2. Отметьте правильные ответы:

† К технологической документации относятся:

- а. фотографии;
- б. технологические карты;
- в. чертежи;
- г. описание изделия.

3. Отметьте правильные ответы:

✓ К наиболее мягким породам древесины из перечисленных ниже деревьев относятся:

- а. сосна;
- б. липа;
- в. дуб;
- г. тополь.

4. Укажите правильный порядок изготовления однодетального изделия из древесины, содержащий следующие операции:

- а. зачистка; 4
- б. пиление; 2
- в. сверление; 3
- г. выбор заготовки. 1

5. Назовите три любых ручных инструмента для обработки металла:

~~сверло, пила, молоток~~ зубило, стамеска, рубанок

ТМБ1

Укажите правильные ответы:

- ± 6. К энергетическим машинам относятся:
- а. токарные станки;
 - б. электродвигатель;
 - в. двигатели внутреннего сгорания автомобилей.
 - г. автомобили.

Укажите правильные ответы:

- 7. К механизмам относятся:
- а. электродвигатели;
 - б. зубчатые передачи;
 - в. обычные слесарные тиски;
 - г. паровые машины.

Укажите правильный ответ:

- 8. В вертикально-фрезерном станке для приведения во вращательное движение сверла как правило используется передача:
- а. зубчатая;
 - б. ременная;
 - в. реечная;
 - г. фрикционная.

- 9. Составьте соответствие к требованиям интерьера жилого помещения, выпишите пары: номер и буква:

1. Эргономические	а- требования соблюдаются тогда, когда в доме поддерживается чистота, оборудовано хорошее освещение, зимой не холодно, летом не жарко, а шум с улицы не проникает в помещение
2. Санитарно-гигиенические	б- требования выражаются в совершенстве внутреннего убранства помещения, гармоничном сочетании цвета мебели и стен, наличии предметов художественного оформления, комнатных растений.
3. Эстетические	в- требования заключаются в том, чтобы и взрослым, и детям было комфортно находиться в доме.

1-а ; 2-б ; 3-в .

Укажите правильный ответ:

10. Из скольких этапов состоит работа над творческим проектом?
- а. 3
 - б. 7
 - в. 5
 - г. 9

11. Перечислите основные этапы выполнения проекта:

- а. поисковый
- б. технологический
- в. организационный
- г. заключительный
- д. испытательный

12. Заполните таблицу используя слова из предложенного списка.

Лиственные породы	Хвойные породы
осина	сосна
лиственница	ель
береза	кедр
дуб	бук

Слова для справок: осина, лиственница, ель, кедр, береза, дуб, бук, сосна.

Укажите правильные ответы:

13. Основные инструменты для обработки древесины:

- а. рубанок
- б. ножницы
- в. слесарный молоток
- г. киянка
- д. стамеска
- е. зубило

14. Вещества, которые обладают особым блеском, проводят электрический ток и тепло, намагничиваются, плавятся при сильном нагреве, это железо, медь, золото, ртуть, серебро

15. Наука, изучающая взаимоотношения человека с природой, это

- а. психология
- б. медицина
- в. экология
- г. природоведение

16. Творческое задание.

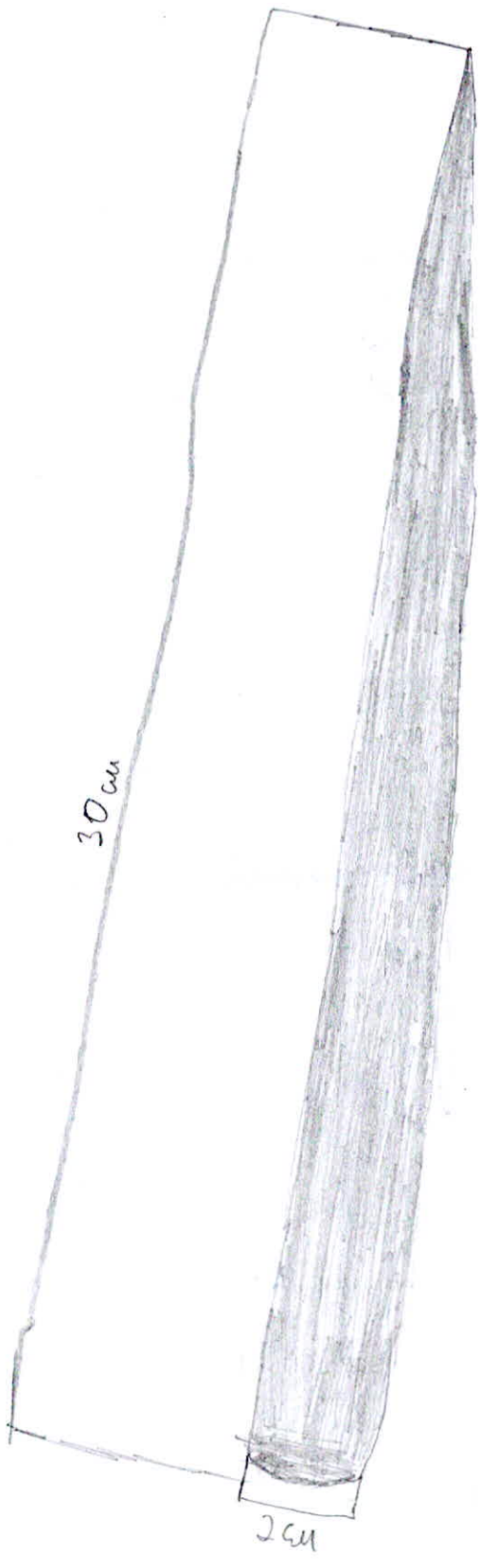
Для изготовления указки:

- а. выберите материал и обоснуйте свой выбор;
- б. выберите размеры заготовки;
- в. нарисуйте эскиз изделия и проставьте размеры;
- г. опишите этапы изготовления и необходимые инструменты на технологической карте;
- д. предложите украшение изделия;

Т 4+4 П - 4

1. дерево- оно хорошо высушено и не будет портиться
 2. из дерева изготовлено и высушено
 3. 2 см на 30 см
- и:

ТМ 61



4

ВСЕРОССИЙСКАЯ ОЛИМПИАДА ШКОЛЬНИКОВ

Школьный этап

Технология («Техника и техническое творчество»)

Код:

ТМ61

6 классы

2023 -2024 учебный год.

Практическая часть.

Время выполнения – 45 минут

Баллы:

4

Задание. Разработайте требования к изделию ученический стул,
разработайте несколько эскизов, нарисуй их

Количество баллов - 10 - 4

Сверху



с боку



сзади



спереди



Снизу



Председатель т.ч. Раманенко К.Ф.
Раманенко

Открыт: Дергачева Т.И.
Маулькено С.А.
Дергачева
Маулькено