

Участник			Учитель			Результаты участия				
Фамилия	Имя	Отчество	Фамилия	Имя	Отчество	Классобучения	Предмет	Статус участник	Результат	Место
Кузеванов	Дмитрий	Константинович	Щерба	Анна	Николаевна	5А	технолог	Победитель	12	1
Панин	Артур	Вячеславович	Щерба	Анна	Николаевна	5А	технолог	Призер	11	2
Мережко	Никита	Витальевич	Щерба	Анна	Николаевна	5А	технолог	Призер	10	3
Плетенко	Глеб	Денисовис	Щерба	Анна	Николаевна	5А	технолог	Призер	10	3
Кривенчук	Савелий	Дмитриевич	Щерба	Анна	Николаевна	5Б	технолог	Призер	9	4
Плотников	Михаил	Анатолевич	Щерба	Анна	Николаевна	5А	технолог	участник	8	5
Прокопьев	Егор	Антонович	Щерба	Анна	Николаевна	5Б	технолог	участник	6	6
Гостев	Даниил	Михайлович	Щерба	Анна	Николаевна	5А	технолог	участник	5	7
Силантьев	Владимир	Александрович	Щерба	Анна	Николаевна	5А	технолог	участник	4	8
Веремеенко	Александр	Георгиевич	Щерба	Анна	Николаевна	5А	технолог	участник	4	8
Бойко	Михаил	Григорьевич	Щерба	Анна	Николаевна	5А	технолог	участник	3	9

1. The first part of the document discusses the importance of maintaining accurate records of all transactions. It emphasizes that this is crucial for ensuring the integrity of the financial statements and for providing a clear audit trail.

2. The second part of the document outlines the specific procedures that should be followed when recording transactions. It details the steps from identifying the transaction to posting it to the appropriate ledger account.

3. The final part of the document provides a summary of the key points discussed and offers some concluding thoughts on the importance of diligent record-keeping in the accounting process.

ВСЕРОССИЙСКАЯ ОЛИМПИАДА ШКОЛЬНИКОВ

Школьный этап 2023 – 2024 учебный год

Технология («Техника и техническое творчество»)

Код:

5 классы

Баллы:

ТМ59

7

Теоретическая часть.

Время выполнения – 45 минут.

Задания в тестовой форме.

Максимальное количество баллов 12 (по 9 баллов за 9 вопросов и до 3 баллов за творческое задание). Задание считается выполненным, если в нем не допущено ни одной ошибки. Наличие лишнего ответа также считается ошибкой.

1. Отметьте правильный ответ:

Технология-это...

- а) список оборудования для выполнения работы;
 б) знания, наука о преобразовании (обработке) материалов, энергии, информации;
 в) набор чертежей для выполнения работы;
 г) перечень материалов для изготовления изделий.

2. Выбери из первой таблицы только инструменты, а из второй только материалы для работы. Выпиши номера и буквы ответов.

Таблица 1.

А	Пластмасса
Б	Шаблон
В	Линейка
Г	Картон
Д	Циркуль
Е	Глина
Ж	Бумага

Таблица 2.

1	Кисть
2	Картон
3	Циркуль
4	Ножницы
5	Бумага
6	Угольник
7	Шаблон

Инструменты:

А, В, Д

Материалы:

Б, Ж

Выберите один правильный ответ

3. Поверхность, составленная из многоугольников в объёмное тело, это:

- а) прямоугольник
 б) сфера
 в) многогранник
 г) ромб

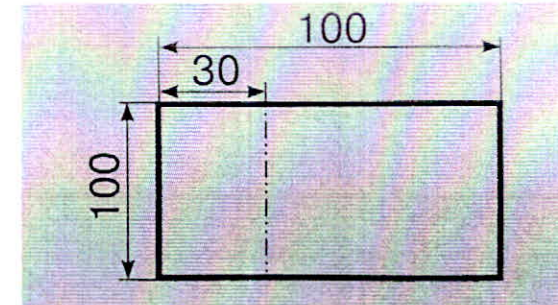
7+5

420

Выберите один правильный ответ

4. Рассмотрев чертёж основы открытки, укажите какое действия с ней нужно выполнить:

- а) основу открытки следует согнуть пополам;
 б) основу открытки следует разрезать пополам;
 в) основу открытки следует согнуть по линии, которая находится на расстоянии 3 см от края.



Выберите один правильный ответ

5. Расстояние от центра до любой точки окружности, это:

- а) радиус
 б) отрезок
 в) диаметр
 г) длина

Выберите один правильный ответ

6. Материал или деталь, из которой при дальнейшей обработке получится изделие, это:

- а) заготовка
 б) шаблон
 в) образец
 г) эталон

7. Укажи, какой из перечисленных материалов имеет все названные свойства: эластичный, мягкий, упругий, непрозрачный, пористый, впитывает воду.

- а) ткань
 б) пластилин
 в) проволока
 г) пластик
 д) пенопласт
 е) поролон

ТМ 59

8. Составьте соответствие, подобрав для каждого устройства компьютера его назначение. Выпишите пары: номер и буква.

1. Системный блок	а) копирование и перенос информации в компьютер
2. Клавиатура	б) печать информации
3. Принтер	в) управление курсором, выполняющим заданные действия
4. Монитор	г) воспроизведение звука
5. Мышь	д) отображение информации
6. Сканер	<input checked="" type="checkbox"/> е) хранение информации и программного обеспечения компьютера
7. Динамики	ё) ввод информации (текста, цифр, знаков)

1- ; 2- ; 3- ; 4- ; 5- ; 6- ; 7- .

Выберите один правильный ответ

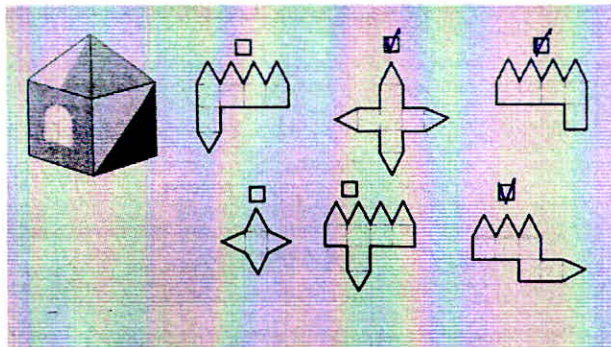
9. Отрезок, проходящий через центр и соединяющий противоположные точки окружности, называется:

а) радиус в) ширина

б) диаметр г) отрезок

10. Творческое задание.

Найдите развёртки, из которых получится данный домик и отметьте.



ВСЕРОССИЙСКАЯ ОЛИМПИАДА ШКОЛЬНИКОВ

Школьный этап

Технология («Техника и техническое творчество»)

Код:

ТМ59

5 классы

2023 – 2024 учебный год

Практическая часть

Время выполнения – 45 минут

Баллы:

5

Задание. Разработайте требования к изделию: школьный портфель

выполни эскиз

Количество баллов -10 (5 баллов за требования, 5 баллов за эскиз)



Председатель жюри: Радченко Н.В. Редко
Дербенева Е.И.
Мальченко Е.И. Роду

Т-4-1
5-9-5

ВСЕРОССИЙСКАЯ ОЛИМПИАДА ШКОЛЬНИКОВ

Школьный этап 2023 – 2024 учебный год

Технология («Техника и техническое творчество»)

Код:

5 классы

Баллы:

ТШ 56

6

Теоретическая часть.

Время выполнения – 45 минут.

Задания в тестовой форме.

Максимальное количество баллов 12 (по 9 баллов за 9 вопросов и до 3 баллов за творческое задание). Задание считается выполненным, если в нем не допущено ни одной ошибки. Наличие лишнего ответа также считается ошибкой.

1. Отметьте правильный ответ:

Технология – это...

- а. список оборудования для выполнения работы;
 б. знания, наука о преобразовании (обработке) материалов, энергии, информации;
 в. набор чертежей для выполнения работы;
 г. перечень материалов для изготовления изделий.

2. Выбери из первой таблицы только инструменты, а из второй только материалы для работы. Выпиши номера и буквы ответов.

Таблица 1.

А	Пластмасса
Б	Шаблон
В	Линейка
Г	Картон
Д	Циркуль
Е	Глина
Ж	Бумага

Таблица 2.

1	Кисть
2	Картон
3	Циркуль
4	Ножницы
5	Бумага
6	Угольник
7	Шаблон

Инструменты: 4; 3; 2;

Материалы: _____

Выберите один правильный ответ

3. Поверхность, составленная из многоугольников в объемное тело, это:

- а) прямоугольник б) сфера
 в) многогранник г) ромб

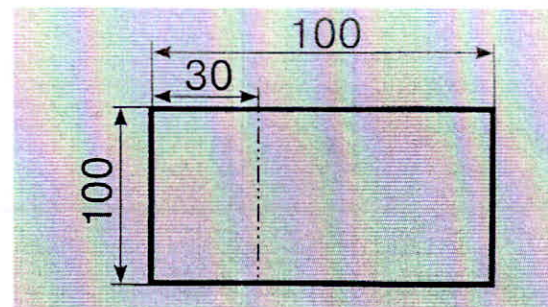
6+5

115

Выберите один правильный ответ

4. Рассмотрев чертёж основы открытки, укажите какое действия с ней нужно выполнить:

- а) основу открытки следует согнуть пополам;
 б) основу открытки следует разрезать пополам;
 в) основу открытки следует согнуть по линии, которая находится на расстоянии 3 см от края.



Выберите один правильный ответ

5. Расстояние от центра до любой точки окружности, это:

- а) радиус б) диаметр
 в) отрезок г) длина

Выберите один правильный ответ

6. Материал или деталь, из которой при дальнейшей обработке получится изделие, это:

- а) заготовка б) образец
 в) шаблон г) эталон

7. Укажи, какой из перечисленных материалов имеет все названные свойства: эластичный, мягкий, упругий, непрозрачный, пористый, впитывает воду.

- а) ткань б) пластилин в) проволока
 г) пластик д) пенопласт е) поролон

ТМ56

8. Составьте соответствие, подобрав для каждого устройства компьютера его назначение. Выпишите пары: номер и буква.

1. Системный блок ¹⁰¹	а) копирование и перенос информации в компьютер
2. Клавиатура ¹⁰⁷	б) печать информации
3. Принтер ⁰⁹¹	в) управление курсором, выполняющим заданные действия
4. Монитор	г) воспроизведение звука
5. Мышь ¹⁰⁸	д) отображение информации
6. Сканер ¹⁰¹	е) хранение информации и программного обеспечения компьютера
7. Динамики ²⁰²¹	ё) ввод информации (текста, цифр, знаков)

1- ; 2- ; 3- ; 4- ; 5- ; 6- ; 7- .

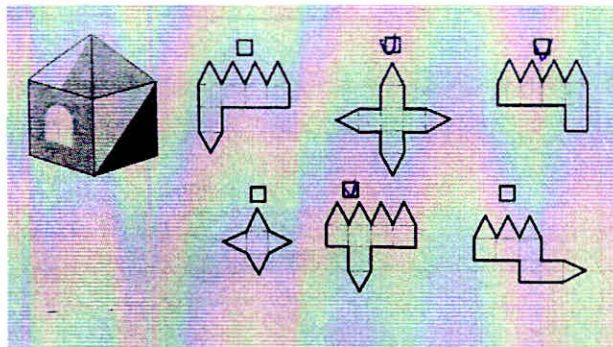
Выберите один правильный ответ

9. Отрезок, проходящий через центр и соединяющий противоположные точки окружности, называется:

- а) радиус в) ширина
б) диаметр г) отрезок

10. Творческое задание.

Найдите развёртки, из которых получится данный домик и отметьте.



ВСЕРОССИЙСКАЯ ОЛИМПИАДА ШКОЛЬНИКОВ

Школьный этап

Технология («Техника и техническое творчество»)

Код:

5 классы

Баллы:

ТМ 56

2023 – 2024 учебный год

Практическая часть

5

Время выполнения – 45 минут

Задание. Разработайте требования к изделию: школьный портфель

выполни эскиз

Количество баллов -10 (5 баллов за требования, 5 баллов за эскиз)



1-4 + 2
Тр-5

Председ. жюри Романенко И.А.
Раш

Жюри: Дербенева Г.И.

Машовенко Е.И.

Ж
Раш

ВСЕРОССИЙСКАЯ ОЛИМПИАДА ШКОЛЬНИКОВ

Школьный этап 2023 – 2024 учебный год

Технология («Техника и техническое творчество»)

Код:

5 классы

Баллы:

ТШ59

5

Теоретическая часть.

Время выполнения – 45 минут.

Задания в тестовой форме.

Максимальное количество баллов 12 (по 9 баллов за 9 вопросов и до 3 баллов за творческое задание). Задание считается выполненным, если в нем не допущено ни одной ошибки. Наличие лишнего ответа также считается ошибкой.

1. Отметьте правильный ответ.

Технология-это...

- а. список оборудования для выполнения работы;
- б. знания, наука о преобразовании (обработке) материалов, энергии, информации;
- в. набор чертежей для выполнения работы;
- г. перечень материалов для изготовления изделий.

2. Выбери из первой таблицы только инструменты, а из второй только материалы для работы. Выпиши номера и буквы ответов.

Таблица 1.

А	Пластмасса
Б	Шаблон
В	Линейка
Г	Картон
Д	Циркуль
Е	Глина
Ж	Бумага

Таблица 2.

1	Кисть
2	Картон
3	Циркуль
4	Ножницы
5	Бумага
6	Угольник
7	Шаблон

Инструменты: 1, 4, 5, 6, 7, 8.

Материалы: 2, 3, 4, 5, 8.

Выберите один правильный ответ

3. Поверхность, составленная из многоугольников в объёмное тело, это:

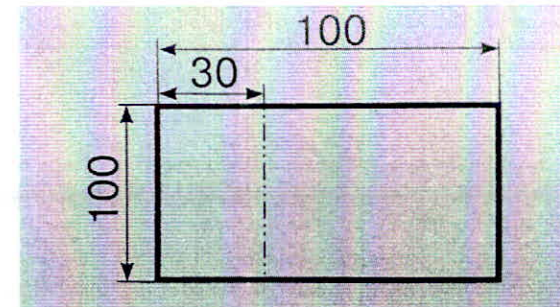
- а) прямоугольник
- б) сфера
- в) многогранник
- г) ромб

100

Выберите один правильный ответ

4. Рассмотрев чертёж основы открытки, укажите какое действия с ней нужно выполнить:

- а) основу открытки следует согнуть пополам;
- б) основу открытки следует разрезать пополам;
- в) основу открытки следует согнуть по линии, которая находится на расстоянии 3 см от края.



Выберите один правильный ответ

5. Расстояние от центра до любой точки окружности, это:

- а) радиус
- б) отрезок
- в) диаметр
- г) длина

Выберите один правильный ответ

6. Материал или деталь, из которой при дальнейшей обработке получится изделие, это:

- а) заготовка
- б) шаблон
- в) образец
- г) эталон

7. Укажи, какой из перечисленных материалов имеет все названные свойства: эластичный, мягкий, упругий, непрозрачный, пористый, впитывает воду.

- а) ткань
- б) пластилин
- в) проволока
- г) пластик
- д) пенопласт
- е) поролон

ТМ51

8. Составьте соответствие, подобрав для каждого устройства компьютера его назначение. Выпишите пары: номер и буква.

1. Системный блок	а) копирование и перенос информации в компьютер
2. Клавиатура	б) печать информации
3. Принтер	в) управление курсором, выполняющим заданные действия
4. Монитор	г) воспроизведение звука
5. Мышь	д) отображение информации
6. Сканер	е) хранение информации и программного обеспечения компьютера
7. Динамики	ё) ввод информации (текста, цифр, знаков)

1- ; 2- ; 3- ; 4- ; 5- ; 6- ; 7- .

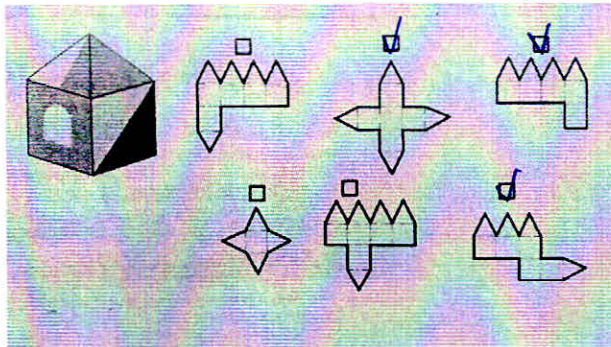
Выберите один правильный ответ

9. Отрезок, проходящий через центр и соединяющий противоположные точки окружности, называется:

- а) радиус в) ширина
б) диаметр г) отрезок

10. Творческое задание.

Найдите развёртки, из которых получится данный домик и отметьте.



ВСЕРОССИЙСКАЯ ОЛИМПИАДА ШКОЛЬНИКОВ

Школьный этап

Технология («Техника и техническое творчество»)

Код:

ТМ51

5 классы

2023 – 2024 учебный год

Практическая часть

Время выполнения – 45 минут

Баллы:

5

Задание. Разработайте требования к изделию: школьный портфель

выполни эскиз

Количество баллов -10 (5 баллов за требования, 5 баллов за эскиз)

Т-2+3
тип-5



математика
русский язык
математика

Председатель жюри Романова И.А. Руф-
жюри: Дербинев ТИ Дз-
Мальченко ЕН Ому

ВСЕРОССИЙСКАЯ ОЛИМПИАДА ШКОЛЬНИКОВ

Школьный этап 2023 – 2024 учебный год
Технология («Техника и техническое творчество»)

Код:

5 классы

Баллы:

ТМ54

5

Теоретическая часть.

Время выполнения – 45 минут.

Задания в тестовой форме.

Максимальное количество баллов 12 (по 9 баллов за 9 вопросов и до 3 баллов за творческое задание). Задание считается выполненным, если в нем не допущено ни одной ошибки. Наличие лишнего ответа также считается ошибкой.

1. Отметьте правильный ответ:

Технология-это...

- а. список оборудования для выполнения работы;
- б. знания, наука о преобразовании (обработке) материалов, энергии, информации;
- в. набор чертежей для выполнения работы;
- г. перечень материалов для изготовления изделий.

2. Выбери из первой таблицы только инструменты, а из второй только материалы для работы. Выпиши номера и буквы ответов.

Таблица 1.

А	Пластмасса
Б	Шаблон
В	Линейка
Г	Картон
Д	Циркуль
Е	Глина
Ж	Бумага

Таблица 2.

1	Кисть
2	Картон
3	Циркуль
4	Ножницы
5	Бумага
6	Угольник
7	Шаблон

Инструменты: 1, 5, 4, 7, 6

Материалы: 2, 3, 5, 7, 6

Выберите один правильный ответ

3. Поверхность, составленная из многоугольников в объёмное тело, это:

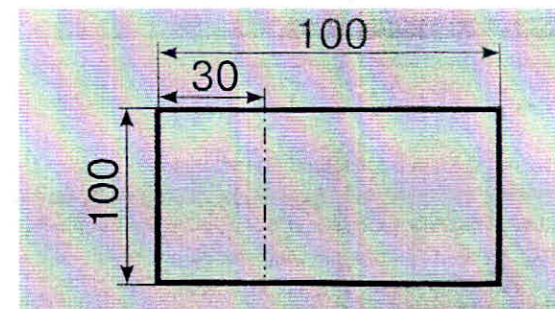
- а) прямоугольник
- б) сфера
- в) многогранник
- г) ромб

100

Выберите один правильный ответ

4. Рассмотрев чертёж основы открытки, укажите какое действия с ней нужно выполнить:

- а) основу открытки следует согнуть пополам;
- б) основу открытки следует разрезать пополам;
- в) основу открытки следует согнуть по линии, которая находится на расстоянии 3 см от края.



Выберите один правильный ответ

5. Расстояние от центра до любой точки окружности, это:

- а) радиус
- б) отрезок
- в) диаметр
- г) длина

Выберите один правильный ответ

6. Материал или деталь, из которой при дальнейшей обработке получится изделие, это:

- а) заготовка
- б) шаблон
- в) образец
- г) эталон

7. Укажи, какой из перечисленных материалов имеет все названные свойства: эластичный, мягкий, упругий, непрозрачный, пористый, впитывает воду.

- а) ткань
- б) пластилин
- в) проволока
- г) пластик
- д) пенопласт
- е) поролон

ТМ54

8. Составьте соответствие, подобрав для каждого устройства компьютера его назначение. Выпишите пары: номер и буква.

1. Системный блок	а) копирование и перенос информации в компьютер
2. Клавиатура	<input checked="" type="checkbox"/> б) печать информации
3. Принтер	в) управление курсором, выполняющим заданные действия
4. Монитор	г) воспроизведение звука
5. Мышь	д) отображение информации
6. Сканер	е) хранение информации и программного обеспечения компьютера
7. Динамики	ё) ввод информации (текста, цифр, знаков)

1- ; 2- ; 3- ; 4- ; 5- ; 6- ; 7- .

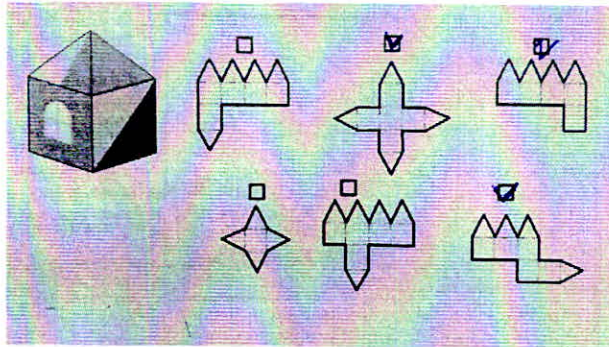
Выберите один правильный ответ

9. Отрезок, проходящий через центр и соединяющий противоположные точки окружности, называется:

- а) радиус в) ширина
б) диаметр г) отрезок

10. Творческое задание.

† Найдите развёртки, из которых получится данный домик и отметьте.



ВСЕРОССИЙСКАЯ ОЛИМПИАДА ШКОЛЬНИКОВ

Школьный этап

Технология («Техника и техническое творчество»)

Код:

ТМ54

5 классы

2023 – 2024 учебный год

Практическая часть

Время выполнения – 45 минут


Баллы:

5


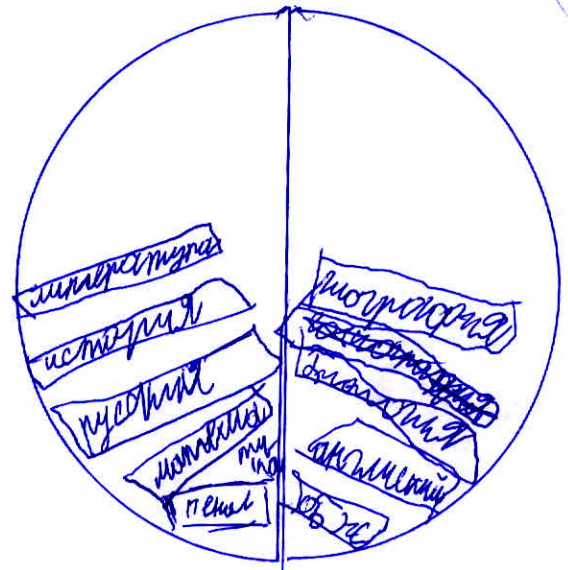
Задание. Разработайте требования к изделию: школьный портфель
выполни эскиз

Количество баллов -10 (5 баллов за требования, 5 баллов за эскиз)

Т-2+8
ШП-5



5



Председ. журн Рамаченко К.А.
Рач -

журн: Дербинев Г.А.
Мальченко Е.Н. Д.М.

ВСЕРОССИЙСКАЯ ОЛИМПИАДА ШКОЛЬНИКОВ

Школьный этап 2023 – 2024 учебный год

Технология («Техника и техническое творчество»)

Код:

5 классы

Баллы:

ТМ591

9

Теоретическая часть.

Время выполнения – 45 минут.

Задания в тестовой форме.

Максимальное количество баллов 12 (по 9 баллов за 9 вопросов и до 3 баллов за творческое задание). Задание считается выполненным, если в нем не допущено ни одной ошибки. Наличие лишнего ответа также считается ошибкой.

1. Отметьте правильный ответ:

Технология-это...

- а. список оборудования для выполнения работы;
 б. знания, наука о преобразовании (обработке) материалов, энергии, информации;
 в. набор чертежей для выполнения работы;
 г. перечень материалов для изготовления изделий.

2. Выбери из первой таблицы только инструменты, а из второй только материалы для работы. Выпиши номера и буквы ответов.

Таблица 1.

А	Пластмасса
Б	Шаблон
В	Линейка
Г	Картон
Д	Циркуль
Е	Глина
Ж	Бумага

Таблица 2.

1	Кисть
2	Картон
3	Циркуль
4	Ножницы
5	Бумага
6	Угольник
7	Шаблон

Инструменты: Б, В, Д.

Материалы: 2, 5

Выберите один правильный ответ

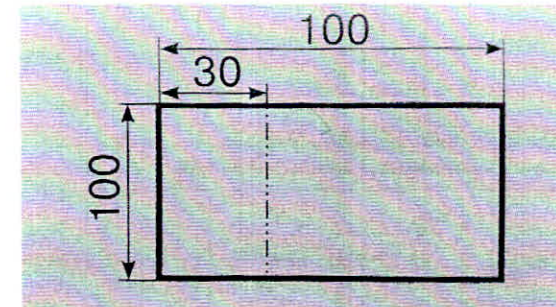
3. Поверхность, составленная из многоугольников в объёмное тело, это:

- а) прямоугольник
 б. сфера
 в) многогранник
 г) ромб

Выберите один правильный ответ

4. Рассмотрев чертёж основы открытки, укажите какое действия с ней нужно выполнить:

- а) основу открытки следует согнуть пополам;
 б) основу открытки следует разрезать пополам;
 в. основу открытки следует согнуть по линии, которая находится на расстоянии 3 см от края.



Выберите один правильный ответ

5. Расстояние от центра до любой точки окружности, это:

- а) радиус
 б) отрезок
 в. диаметр
 г) длина

Выберите один правильный ответ

6. Материал или деталь, из которой при дальнейшей обработке получится изделие, это:

- а. заготовка
 б) шаблон
 в) образец
 г) эталон

7. Укажи, какой из перечисленных материалов имеет все названные свойства: эластичный, мягкий, упругий, непрозрачный, пористый, впитывает воду.

- а) ткань
 б) пластилин
 в) проволока
 г) пластик
 д) пенопласт
 е. поролон

95

ТМ 591

8. Составьте соответствие, подобрав для каждого устройства компьютера его назначение. Выпишите пары: номер и буква.

1. Системный блок	а) копирование и перенос информации в компьютер
2. Клавиатура	б) печать информации
3. Принтер	в) управление курсором, выполняющим заданные действия
4. Монитор	г) воспроизведение звука
5. Мышь	д) отображение информации
6. Сканер	е) хранение информации и программного обеспечения компьютера
7. Динамики	ё) ввод информации (текста, цифр, знаков)

1-е; 2-б; 3-в; 4-г; 5-д; 6-а; 7-з.

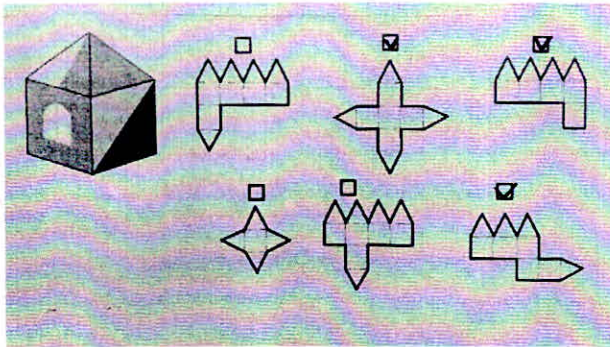
Выберите один правильный ответ

9. Отрезок, проходящий через центр и соединяющий противоположные точки окружности, называется:

- а) радиус в) ширина
б) диаметр г) отрезок

10. Творческое задание.

Найдите развёртки, из которых получится данный домик и отметьте.



T-

ВСЕРОССИЙСКАЯ ОЛИМПИАДА ШКОЛЬНИКОВ

Школьный этап

Технология («Техника и техническое творчество»)

Код:

ТМ591

5 классы

2023 – 2024 учебный год

Практическая часть

Время выполнения – 45 минут

Баллы:

0

Задание. Разработайте требования к изделию: школьный портфель

выполни эскиз

Количество баллов -10 (5 баллов за требования, 5 баллов за эскиз)

Председатель жюри Решащенко И.А.
Вест-

жюри: Бердешова Г.А.
Мальченко С.Н.

Т-6+3
ТФ-0

