

И 714

ВСЕРОССИЙСКАЯ ОЛИМПИАДА ШКОЛЬНИКОВ
ПО ИСТОРИИ. 2023–2024 ГОД
ШКОЛЬНЫЙ ЭТАП. 7 КЛАСС

В заданиях 1–3 дайте один верный ответ. Ответ внесите в таблицу.

1 Прочтите отрывок из договора, изложенного в «Истории государства Российского» Н.М. Карамзина. Определите, в правление какого князя данный договор был заключен.

«Мы от роду русского, Карл Ингелот, Фарлов, Веремид... посланные..., великим князем русским и всеми сущими под рукою его, светлыми боярами, к вам, Льву, Александру и Константину, великим царям греческим, на удержание и на извещение от многих лет бывшие любви между христианами и Русью...»

- 1) Владимир Святославович
- 2) Олег Вещий
- 3) Игорь Старый
- 4) Святослав Игоревич

1

2 Как называется документ, отрывок из которого представлен ниже?

«Убьет муж мужа, то мстит брат за брата, или сын за отца, или сын брата или сын сестры: если не будет кто мстить, то 40 гривен за убитого. Если убитый – русин, или гридин, или купец, или ябедник, или мечник, или же изгой, или словенин, то 40 гривен уплатить за него...»

- 1) «Русская Правда»
- 2) «Домострой»
- 3) «Изборник» Святослава
- 4) Судебник 1497г.

1

3 Прочитайте отрывок из описания историком одного из городов Древней Руси и укажите данный город:

«Сей северорусский город имел развитую торговлю с Ганзой, в нём имелись специально построенные гостинные дворы для немецких и скандинавских купцов... Не раз город подвергался угрозе захвата, однако, даже полчища Батыя не решились осадить его...»

- 1) Вятка
- 2) Торжок
- 3) Новгород
- 4) Ярославль

1

1	2	3
2	7	3

В заданиях 4–6 выберите несколько верных ответов из предложенных. Ответы внесите в таблицу.

4 Какие из представленных ниже славянских племён жили на левом берегу р. Днепр?

- 1) Волыняне
- 2) Вятичи
- 3) Древяне
- 4) Дреговичи
- 5) Северяне
- 6) Радимичи

5 Какие из представленных ниже правителей Древнерусского государства приняли христианство?

- 1) Олег Вещий
- 2) Игорь Старый
- 3) Ольга Мудрая
- 4) Святослав Игоревич
- 5) Владимир Святославович
- 6) Ярослав Владимирович

6 Какие из представленных государственных образований были разорены Батыем в результате похода 1237–1238 гг.

- 1) Волынское княжество
- 2) Галицкое княжество
- 3) Владимиро-Суздальское княжество
- 4) Рязанское княжество
- 5) Киевское княжество
- 6) Смоленское княжество

4	5	6
2 56 +	2 56 7 +	4 3 +

60

7 В приведенном ниже перечне представлены реформы, осуществленные различными правителями Руси. Сгруппируйте данные реформы, назвав правителей и записав номера проведенных ими преобразований в таблицу.

1. Учреждение погостов
2. Попытка создания единого пантеона языческих богов
3. Принятие христианства на Руси
4. Строительство укрепленных городков против печенегов в левобережье Днепра
5. Законодательное введение виры
6. Избрание первого митрополита из русичей

Правитель	Олег Великий	Святослав Игоревич	Владимир Святославич
Реформа	3	2	4

8 По какому принципу образованы ряды? Дайте максимально точный ответ.

1. 1224 г., 1240 г., 1242 г., 1268 г.
2. Скать, зернь, филигрань, позолота

Ответ:

1224 - зернь
1240 - позолота
1242 - скать
1268 - филигрань

9 Дайте краткое обоснование ряда – с какими событиями связаны приведенные годы и назовите, какой из них является лишним:

1. 907 г., 941 г., 944 г., 948 г.
2. 1223 г., 1237–1238 гг., 1240–1241 гг., 1245–1246 гг.

Ответ:

1. Принятие христианства на Руси в 907 г.
2. Нападение монголов на Русь

10 Расположите в хронологической последовательности:

- А) Венчание на царствование Ивана IV
- Б) Судебник Ивана III
- В) Стояние на реке Угре
- Г) Присоединение Новгорода к Москве
- Д) Начало Ливонской войны
- Е) Начало правления Василия III

Ответ:

з	в	д	е	а	г
---	---	---	---	---	---

11 Дайте объяснение наукам, которые помогают изучать историю?

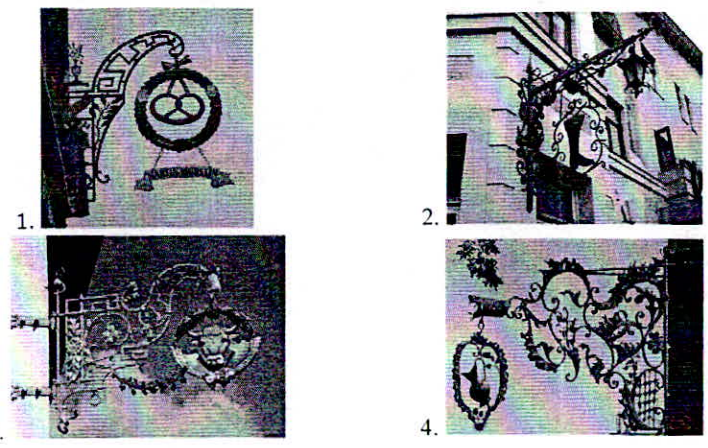
Науки	Объяснение
Топонимика	Изучение имен местностей
Геральдика	Изучение искусства в истории
Сфрагистика	
Генеалогия	Изучение именитых в истории

12 О каком событии говорится в стихотворении? Кто такой Дмитрий? Чье благословение получил Дмитрий?

И у толпы, притихшей на глазах
 Встал Дмитрий пред игуменом на
 колени
 И получил его благословенье:
 -Иди!
 Да не коснется сердца
 страх! Ты вернешься скоро! ...
 И двух богатырей измерил взором:
 -Вот иноки – сподвижники тебе.

Столпник на реке Угре; Дмитрий - полководец.
Нападение Куликовской битвы, Дмитрий Донской - великий князь.

13 Рассмотрите изображения вывесок в средневековом городе и выполните задания.



1. Назовите профессии людей, вывески чьих мастерских или лавок здесь изображены.
2. Укажите общее название организаций, в которые объединялись средневековые ремесленники.
3. Назовите уровни иерархической структуры в этих организациях.


Ответ:

1	2	3
Сторож, архитектор, пекарь, мельник, вьюн	Цех	Мастер, ученик, подмастерье

95

Итого! 30 ф.

Председатель МуП Муромова В.И.
 Член жюри КХ Кучерова Т.И.
 Учитель Маширова О.В.



4703

ВСЕРОССИЙСКАЯ ОЛИМПИАДА ШКОЛЬНИКОВ
ПО ИСТОРИИ. 2023–2024 ГОД
ШКОЛЬНЫЙ ЭТАП. 7 КЛАСС

В заданиях 1–3 дайте один верный ответ. Ответ внесите в таблицу.

1 Прочтите отрывок из договора, изложенного в «Истории государства Российского» Н.М. Карамзина. Определите, в правление какого князя данный договор был заключен.

«Мы от роду русского, Карл Ингелот, Фарлов, Веремид... посланные..., великим князем русским и всеми сущими под рукою его, светлыми боярами, к вам, Льву, Александру и Константину, великим царям греческим, на удержание и на извещение от многих лет бывшие любви между христианами и Русью...»

- 1) Владимир Святославович
- 2) Олег Вещий
- 3) Игорь Старый
- 4) Святослав Игоревич

2 Как называется документ, отрывок из которого представлен ниже?

«Убьет муж мужа, то мстит брат за брата, или сын за отца, или сын брата или сын сестры; если не будет кто мстить, то 40 гривен за убитого. Если убитый – русин, или гридин, или купец, или ябедник, или мечник, или же изгой, или словенин, то 40 гривен уплатить за него...»

- 1) «Русская Правда»
- 2) «Домострой»
- 3) «Изборник» Святослава
- 4) Судебник 1497г.

3 Прочитайте отрывок из описания историком одного из городов Древней Руси и укажите данный город:

«Сей северорусский город имел развитую торговлю с Ганзой, в нём имелись специально построенные гостиные дворы для немецких и скандинавских купцов... Не раз город подвергался угрозе захвата, однако, даже полчища Батгя не решились осадить его...»

- 1) Вятка
- 2) Торжок
- 3) Новгород
- 4) Ярославль

1	2	3
2	3 1	4 3

30

В заданиях 4–6 выберите несколько верных ответов из предложенных. Ответы внесите в таблицу.

4 Какие из представленных ниже славянских племён жили на левом берегу р. Днепр?

- 1) Волыняне
- 2) Вятичи
- 3) Дrevляне
- 4) Дреговичи
- 5) Северяне
- 6) Радимичи

5 Какие из представленных ниже правителей Древнерусского государства приняли христианство?

- 1) Олег Вещий
- 2) Игорь Старый
- 3) Ольга Мудрая
- 4) Святослав Игоревич
- 5) Владимир Святославич
- 6) Ярослав Владимирович

6 Какие из представленных государственных образований были разорены Батыем в результате похода 1237–1238 гг.

- 1) Волынское княжество
- 2) Галицкое княжество
- 3) Владимиро-Суздальское княжество
- 4) Рязанское княжество
- 5) Киевское княжество
- 6) Смоленское княжество

4	5	6
56	8356	34

60

И 703

7 В приведенном ниже перечне представлены реформы, осуществленные различными правителями Руси. Сгруппируйте данные реформы, назвав правителей и записав номера проведенных ими преобразований в таблицу.

1. Учреждение погостов
2. Попытка создания единого пантеона языческих богов
3. Принятие христианства на Руси
4. Строительство укрепленных городков против печенегов в левобережье Днепра
5. Законодательное введение виры
6. Избрание первого митрополита из русичей

Правитель	Строительство		
Реформа			

8 По какому принципу образованы ряды? Дайте максимально точный ответ.

1. 1224 г., 1240 г., 1242 г., 1268 г.
2. Скать, зернь, филигрань, позолота

Ответ:

1, 2

9 Дайте краткое обоснование ряда – с какими событиями связаны приведенные годы и назовите, какой из них является лишним:

1. 907 г., 941 г., 944 г., 948 г.
2. 1223 г., 1237–1238 гг., 1240–1241 гг., 1245–1246 гг.

Ответ:

1. 907 г., Киевская Русь и Византизм

10 Расположите в хронологической последовательности:

- А) Венчание на царствование Ивана IV
- Б) Судебник Ивана III
- В) Стояние на реке Угре
- Г) Присоединение Новгорода к Москве
- Д) Начало Ливонской войны
- Е) Начало правления Василия III

Ответ:

Б	В	Г	Е	Д	А
---	---	---	---	---	---

11 Дайте объяснение наукам, которые помогают изучать историю?


Науки	Объяснение
Топонимика	указания
Геральдика	эмбле
Сфрагистика	картены
Генеалогия	сфрагические знаки

12 О каком событии говорится в стихотворении? Кто такой Дмитрий? Чье благословение получил Дмитрий?

И у толпы, притихшей на глазах
 Встал Дмитрий пред игуменом на колени
 И получил его благословенье:
 -Иди!
 Да не коснется сердца
 страх! Ты вернешься скоро! ...
 И двух богатырей измерил взором:
 -Вот иноки – сподвижники тебе.

накануне Куликовской битвы, Дмитрий Донской - московский князь

13 Рассмотрите изображения вывесок в средневековом городе и выполните задания.



1. Назовите профессии людей, вывески чьих мастерских или лавок здесь изображены.
2. Укажите общее название организаций, в которые объединялись средневековые ремесленники.
3. Назовите уровни иерархической структуры в этих организациях.

Ответ:

1	2	3
пекарь, мясник,	гильдия	гильдия

30

Итого: 26
 Руководитель: Муртахова В. И.
 Учитель: Муртахова Т. М.
 Учитель: Максимова О. В.

ВСЕРОССИЙСКАЯ ОЛИМПИАДА ШКОЛЬНИКОВ
ПО ИСТОРИИ. 2023–2024 ГОД
ШКОЛЬНЫЙ ЭТАП. 7 КЛАСС

В заданиях 1–3 дайте один верный ответ. Ответ внесите в таблицу.

1 Прочтите отрывок из договора, изложенного в «Истории государства Российского» Н.М. Карамзина. Определите, в правление какого князя данный договор был заключен.

«Мы от роду русского, Карл Ингелот, Фарлов, Веремид... посланные..., великим князем русским и всеми сущими под рукою его, светлыми боярами, к вам, Льву, Александру и Константину, великим царям греческим, на удержание и на извещение от многих лет бывшие любви между христианами и Русью...»

- 1) Владимир Святославович
- 2) Олег Вещий
- 3) Игорь Старый
- 4) Святослав Игоревич

2 Как называется документ, отрывок из которого представлен ниже?

«Убьет муж мужа, то мстит брат за брата, или сын за отца, или сын брата или сын сестры: если не будет кто мстить, то 40 гривен за убитого. Если убитый – русин, или гридин, или купец, или ябедник, или мечник, или же изгой, или словенин, то 40 гривен уплатить за него...»

- 1) «Русская Правда»
- 2) «Домострой»
- 3) «Изборник» Святослава
- 4) Судебник 1497г.

3 Прочитайте отрывок из описания историком одного из городов Древней Руси и укажите данный город:

«Сей северорусский город имел развитую торговлю с Ганзой, в нём имелись специально построенные гостиные дворы для немецких и скандинавских купцов... Не раз город подвергался угрозе захвата, однако, даже полчища Батыея не решились осадить его...»

- 1) Вятка
- 2) Торжок
- 3) Новгород
- 4) Ярославль

1	2	3
2	4	3

38

В заданиях 4–6 выберите несколько верных ответов из предложенных. Ответы внесите в таблицу.

4 Какие из представленных ниже славянских племён жили на левом берегу р. Днепр?

- 1) Волыняне
- 2) Вятичи
- 3) Древляне
- 4) Дреговичи
- 5) Северяне
- 6) Радимичи

5 Какие из представленных ниже правителей Древнерусского государства приняли христианство?

- 1) Олег Вещий
- 2) Игорь Старый
- 3) Ольга Мудрая
- 4) Святослав Игоревич
- 5) Владимир Святославович
- 6) Ярослав Владимирович

6 Какие из представленных государственных образований были разорены Батыем в результате похода 1237–1238 гг.

- 1) Волынское княжество
- 2) Галицкое княжество
- 3) Владимиро-Суздальское княжество
- 4) Рязанское княжество
- 5) Киевское княжество
- 6) Смоленское княжество

4	5	6
2, 3, 5, 6	3, 4, 5, 6	4, 5, 6

356

34

68

и 701

7 В приведенном ниже перечне представлены реформы, осуществленные различными правителями Руси. Сгруппируйте данные реформы, назвав правителей и записав номера проведенных ими преобразований в таблицу.

1. Учреждение погостов
2. Попытка создания единого пантеона языческих богов
3. Принятие христианства на Руси
4. Строительство укрепленных городков против печенегов в левобережье Днепра
5. Законодательное введение виры
6. Избрание первого митрополита из русичей

Правитель	Аевра	Владимир ^{святый}	Ярослав Мудрый
Реформа	1	2, 3, 4	5, 6

8 По какому принципу образованы ряды? Дайте максимально точный ответ.

1. 1224 г., 1240 г., 1242 г., 1268 г.
2. Скать, зернь, филигрань, позолота

Ответ:

9 Дайте краткое обоснование ряда – с какими событиями связаны приведенные годы и назовите, какой из них является лишним:

1. 907 г., 941 г., 944 г., 948 г.
2. 1223 г., 1237–1238 гг., 1240–1241 гг., 1245–1246 гг.

Ответ:

10 Расположите в хронологической последовательности:

- А) Венчание на царствование Ивана IV
- Б) Судебник Ивана III
- В) Стояние на реке Угре
- Г) Присоединение Новгорода к Москве
- Д) Начало Ливонской войны
- Е) Начало правления Василия III

Ответ:

Г	Б	Д	В	А	Е
Г	Б	Д	В	А	Е

11 Дайте объяснение наукам, которые помогают изучать историю?

Науки	Объяснение
Топонимика	
Геральдика	
Сфрагистика	
Генеалогия	

12 О каком событии говорится в стихотворении? Кто такой Дмитрий? Чье благословение получил Дмитрий?

И у толпы, притихшей на глазах
 Встал Дмитрий пред игуменом на колени
 И получил его благословенье:
 -Иди!
 Да не коснется сердца
 страх! Ты вернешься скоро! ...
 И двух богатырей измерил взором:
 -Вот иноки – сподвижники тебе.

ИГО


13 Рассмотрите изображения вывесок в средневековом городе и выполните задания.



1.



2.



3.



4.

- 1. Назовите профессии людей, вывески чьих мастерских или лавок здесь изображены.
- 2. Укажите общее название организаций, в которые объединялись средневековые ремесленники.
- 3. Назовите уровни иерархической структуры в этих организациях.

Ответ:

1	2	3
Ковачи	цех	Мастер, ученик

Итого 28 бал.

50

Преподаватель Мушуртасова В.И.
 Имя: Шершуртасова Т.И.
 А. Маширова О.В.

