

Дата проведения \_\_\_\_\_

Шифр участника \_\_\_\_\_

Шифр участника \_\_\_\_\_

Всероссийская олимпиада школьников  
в 2023 -2024 учебном году  
Школьный этап  
по истории  
6 класс

МБОУ СОШ \_\_\_\_\_

(ФИО участника)

Задания для обучающихся.  
Время выполнения - 60 мин.  
Максимальный балл - 100

Задание 1. Верны ли следующие утверждения? («Да» - «Нет»)  
Ответы внесите в таблицу. За каждый правильный ответ – 2 балла,  
максимальный балл за задание – 16.

1. Железо было первым металлом, из которого люди стали изготавливать орудия труда. *нет*
2. Австралопитек был обнаружен на территории Юго-Восточной Африки. *да*
3. Изучением и восстановлением физического облика древних людей занимается антропология. *да*
4. Первым одомашненным животным стала лошадь. *нет*
5. Первого человека учёные называют – «человек разумный». *нет*
6. Мамонты являются древними обитателями Сибири. *да*
7. Первыми в истории человечества определили продолжительность года (365 суток) жители Древней Индии. *да*
8. Люди перешли к производящему хозяйству в период неолита.

1	2	3	4	5	6	7	8	
<i>20</i>	<i>20</i>	<i>20</i>	<i>20</i>	<i>20</i>	<i>20</i>	<i>0</i>	<i>20</i>	<i>140</i>
<i>нет</i>	<i>да</i>	<i>да</i>	<i>нет</i>	<i>да</i>	<i>да</i>	<i>да</i>	<i>да</i>	

Задание 2. Тестовые задания.

За каждый правильный ответ – 2 балла, максимальный балл за задание – 10.

2.1. Определите дату окончания истории Древнего мира и начала истории Средних веков:

- А) 410 г.
- Б) 395 г.
- В) 476 г.

2.2. Когда происходило Великое переселение народов?

- А) IV-VII в.в.
- Б) III-IV в.в.
- В) I-II в.в.

2.3. Назовите транспортное средство бога Амона в Египте:

- А) сани;
- Б) лодка;
- В) повозка.

2.4. В какой стране впервые начали чеканить золотую монету?

- А) Финикия;
- Б) Мидия;
- В) Лидия.

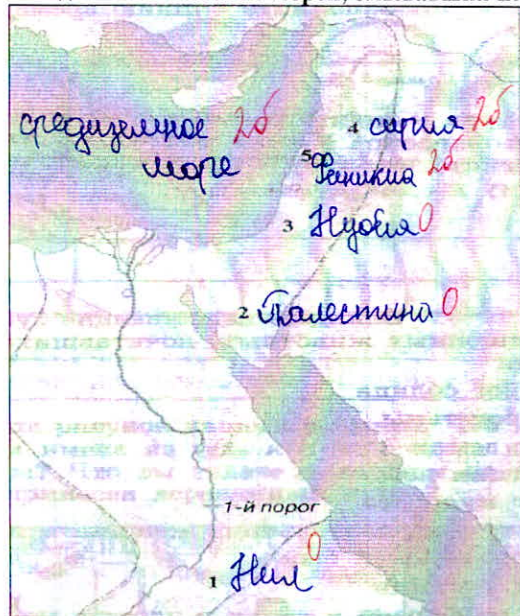
**2.5. Какие звуки не передавались на письме египтянами?**

- 25 А) согласные;  
 Б) гласные;  
 В) нет правильного ответа

**Задание 3.** За каждый правильный ответ – 2 балла, максимальный балл за задание – 14.

На контурной карте Египта:

- надпишите название реки, до которой доходили границы Египетского царства на севере в середине II тысячелетия до н.э.;
- рядом с цифрами надпишите название стран или регионов, завоеванных фараонами за пределами Египта (Финикия, Нубия, Сирия, Палестина). Например: 2 – Синайский полуостров;
- надпишите название морей, омывавших Египет.



102

**Задание 4.** За каждый правильный ответ – 2 балла, максимальный балл за задание – 8.

Установи соответствие между понятиями и их определениями.

1. миф	Б	А	наука, изучающая вещественные памятники истории
2. жрецы	В	Б	сказание о богах
3. мотыга	Г	В	служители бога
4. археология	Г	Г	палка с сучком для занятия земледелием

Соответствующие буквы ответов внеси в таблицу.

1	2	3	4
Б	В	Г	А

**Задание 5.** В каждой строке выберите слово лишнее по смыслу, объясните почему. За каждый правильный ответ - 2 балла. Максимальный балл за задание – 6.

1.	Брахман	Шудры	Фараон	Неприкасаемые
2.	Нил	Тигр	Ганг	Вавилон
3.	Соломон	Шамаш	Анубис	Иштар

1. Неприкасаемые - остальные являются кастами, а не кастами.  
 2. Вавилон - это город, а не река.  
 3. Шамаш - все остальные являются богами.

**Задание 6.** Вставьте пропущенные слова.

За каждый правильный ответ - 3 балла. Максимальный балл за задание – 21.

Археологам попался камень с надписью, часть которой была стерта. Прочитайте текст и впишите в таблицу недостающие слова

«Я - Синахериб, великий царь, могучий царь, царь 1) \_\_\_\_\_, царь всего света, премудрый, послушный великим 2) \_\_\_\_\_, любящий справедливость, творящий 3) \_\_\_\_\_, испепеляющий врагов. Я нанес поражение царю 4) \_\_\_\_\_. Посреди битвы покинул он свой лагерь, умчался один и спас свою 5) \_\_\_\_\_. В его дворец с ликованием я вошёл. Я отворил его сокровищницу. Золотую и Серебряную 6) \_\_\_\_\_, драгоценные камни, все, что там было, я забрал как добычу. 200 тыс. человек мужчин и женщин, коней, ослов и верблюдов, крупный и мелкий скот без числа я угнал 7) \_\_\_\_\_. Не покорных я оружием побил, трупы их завесил на кольях, которые вокруг города велел поставить»

- |            |           |
|------------|-----------|
| А) красота | Ж) дочь   |
| Б) Египет  | З) боги   |
| В) Ассирия | И) фараон |
| Г) монета  | К) жизнь  |
| Д) Вавилон | Л) добро  |
| Д) зло     | М) утварь |



1	2	3	4	5	6	7	66
6	2	36	8	36	0	0	
8	2	1	8	8	2	8	

**Задание 7. Поработайте с датой.**

За правильный ответ - 1 балл. Максимальный балл за задание - 1.  
 Используя ленту времени, ответьте на вопрос: Сколько лет прошло с момента захвата Вавилона персами до 2023 года? Ответ запишите цифрами 0  
223

**Задание 8. Работа с иллюстрациями.**

За каждый правильный ответ - 4 балла. Максимальный балл за задание - 24.

8.1. Перед вами плакат времен Великой Отечественной войны.

Какие исторические деятели представлены на плакате?

Ответ: три соотечественника, полководца Жуков,

Муртахов Б.Н.      Муртахов —  
 Курбанов Т.М.      Курбанов —  
 Шакиров О.В.      Шакиров —



№ч/п	1	2	3	4	5	6	7	8
max	16	10	14	8	6	21	1	24
полн	14	4	6	8	2	6	0	0
Балл	Всего: 40 баллов							



103

Дата проведения \_\_\_\_\_

Шифр участника

Шифр участника \_\_\_\_\_

Задания для обучающихся.  
Время выполнения - 60 мин.  
Максимальный балл - 100

Всероссийская олимпиада школьников  
в 2023 -2024 учебном году  
Школьный этап  
по истории  
6 класс

МБОУ СОШ \_\_\_\_\_

(ФИО участника)

Задание 1. Верны ли следующие утверждения? («Да» - «Нет»).  
Ответы внесите в таблицу. За каждый правильный ответ – 2 балла,  
максимальный балл за задание – 16.

1. Железо было первым металлом, из которого люди стали изготавливать орудия труда.
2. Австралопитек был обнаружен на территории Юго-Восточной Африки.
3. Изучением и восстановлением физического облика древних людей занимается антропология.
4. Первым одомашненным животным стала лошадь.
5. Первого человека учёные называют – «человек разумный».
6. Мамонты являются древними обитателями Сибири.
7. Первыми в истории человечества определили продолжительность года (365 суток) жители Древней Индии.
8. Люди перешли к производящему хозяйству в период неолита.

1	2	3	4	5	6	7	8
да 0	нет 0	да 20	нигда 0	ранити 0	нет 0	нет 20	да 20

60

Задание 2. Тестовые задания.

За каждый правильный ответ – 2 балла, максимальный балл за задание – 10.

2.1. Определите дату окончания истории Древнего мира и начала истории Средних веков:

Средних веков:

А) 410 г.

Б) 395 г.

В) 476 г.

2.2. Когда происходило Великое переселение народов?

А) IV-VII в.в.

Б) III-IV в.в.

В) I-II в.в.

2.3. Назовите транспортное средство бога Амона в Египте:

А) сани;

Б) лодка;

В) повозка.

2.4. В какой стране впервые начали чеканить золотую монету?

А) Финикия;

Б) Мидия;

В) Лидия.




2.5. Какие звуки не передавались на письме египтянами?

- А) согласные;
- Б) гласные;
- В) нет правильного ответа

Задание 3. За каждый правильный ответ – 2 балла, максимальный балл за задание – 14.

На контурной карте Египта:

1. надпишите название реки, до которой доходили границы Египетского царства на севере в середине II тысячелетия до н.э.; *Нил 2б*
2. рядом с цифрами надпишите название стран или регионов, завоеванных фараонами за пределами Египта (Финикия, Нубия, Сирия, Палестина). Например: 2 – Синайский полуостров;
3. надпишите название морей, омывавших Египет.



Задание 4. За каждый правильный ответ – 2 балла, максимальный балл за задание – 8.

Установи соответствие между понятиями и их определениями.

1.	миф <b>Б</b>	А	наука, изучающая вещественные памятники истории
2.	жрецы <b>В</b>	Б	сказание о богах
3.	мотыга <b>Г</b>	В	служители бога
4.	археология <b>А</b>	Г	палка с сучком для занятия земледелием

Соответствующие буквы ответов внеси в таблицу.

1	2	3	4
<b>Б</b>	<b>В</b>	<b>Г</b>	<b>А</b>

Задание 5. В каждой строке выберите слово лишнее по смыслу, объясните почему. За каждый правильный ответ - 2 балла. Максимальный балл за задание – 6.

1.	Брахман	Шудры	Фараон	Неприкасаемые
2.	Нил	Тигр	Ганг	Вавилон
3.	Соломон	Шамаш	Анубис	Иштар

1. *Шудры*
2. *Вавилон*
3. *Иштар*

Задание 6. Вставьте пропущенные слова.

За каждый правильный ответ - 3 балла. Максимальный балл за задание – 21.

Археологам попался камень с надписью, часть которой была стерта.

Прочитайте текст и впишите в таблицу недостающие слова

«Я - Синахериб, великий царь, могучий царь, царь 1) **Б**, царь всего света, мудрый, послушный великим 2) **З**, любящий справедливость, творящий 3) **Л**, испепеляющий врагов. Я нанес поражение царю 4) **Д**.

Посреди битвы покинул он свой лагерь, умчался один и спас свою 5) **К**.

В его дворец с ликованием я вошёл. Я отворил его сокровищницу. Золотую и Серебряную 6) **Г**, драгоценные камни, все, что там было, я забрал как добычу. 200 тыс. человек мужчин и женщин, коней, ослов и верблюдов, крупный и мелкий скот без числа я угнал 7) **В**.

Не покорных я оружием побил, трупы их завесил на кольях, которые вокруг города велел поставить»

- |            |           |
|------------|-----------|
| А) красота | Ж) дочь   |
| Б) Египет  | З) боги   |
| В) Ассирия | И) фараон |
| Г) монета  | К) жизнь  |
| Д) Вавилон | Л) добро  |
| Д) зло     | М) утварь |

103

Муртахова Т.И. Мух  
Курова Т.М. Кур  
Шамирова О.К. Ш

1	2	3	4	5	6	7

**Задание 7. Поработайте с датой.**

За правильный ответ - 1 балл. Максимальный балл за задание - 1.

Используя ленту времени, ответьте на вопрос: Сколько лет прошло с момента захвата Вавилона персами до 2023 года? Ответ запишите цифрами

**Задание 8. Работа с иллюстрациями.**

За каждый правильный ответ - 4 балла. Максимальный балл за задание - 24.

8.1. Перед вами плакат времен Великой Отечественной войны.

Какие исторические деятели представлены на плакате?

Ответ: +



№ задания	1	2	3	4	5	6	7	8
макс баллы	16	10	14	8	6	21	1	24
определ	6	2	8	8	0	15	0	0

Всего: 395





206

Дата проведения \_\_\_\_\_

Шифр участника \_\_\_\_\_

Шифр участника \_\_\_\_\_

Задания для обучающихся.  
Время выполнения - 60 мин.  
Максимальный балл - 100

Всероссийская олимпиада школьников  
в 2023 -2024 учебном году  
Школьный этап  
по истории  
6 класс

МБОУ СОШ \_\_\_\_\_

(ФИО участника)

Задание 1. Верны ли следующие утверждения? («Да» - «Нет»).  
Ответы внесите в таблицу. За каждый правильный ответ – 2 балла,  
максимальный балл за задание – 16.

- Железо было первым металлом, из которого люди стали изготавливать орудия труда.
- Австралопитек был обнаружен на территории Юго-Восточной Африки.
- Изучением и восстановлением физического облика древних людей занимается антропология.
- Первым одомашненным животным стала лошадь.
- Первого человека учёные называют – «человек разумный».
- Мамонты являются древними обитателями Сибири.
- Первыми в истории человечества определили продолжительность года (365 суток) жители Древней Индии.
- Люди перешли к производящему хозяйству в период неолита.

1	2	3	4	5	6	7	8	
2,5	0	2,5	0	2,5	2,5	0	0	6,5
НЕТ	Нет	ДА	Нет	Да	Да	Да	Нет	

Задание 2. Тестовые задания.

За каждый правильный ответ – 2 балла, максимальный балл за задание – 10.

2.1. Определите дату окончания истории Древнего мира и начала истории Средних веков:

Средних веков:

А) 410 г.

2,5 Б) 395 г.

Ⓐ) 476 г.

2.2. Когда происходило Великое переселение народов?

2,5 Ⓐ) IV-VII в.в.

Б) III-IV в.в.

В) I-II в.в.

2.3. Назовите транспортное средство бога Амона в Египте:

А) сани;

2,5 Ⓐ) лодка;

В) повозка.

2.4. В какой стране впервые начали чеканить золотую монету?

Ⓐ) Финикия;

0 Б) Мидия;

В) Лидия.

И 06

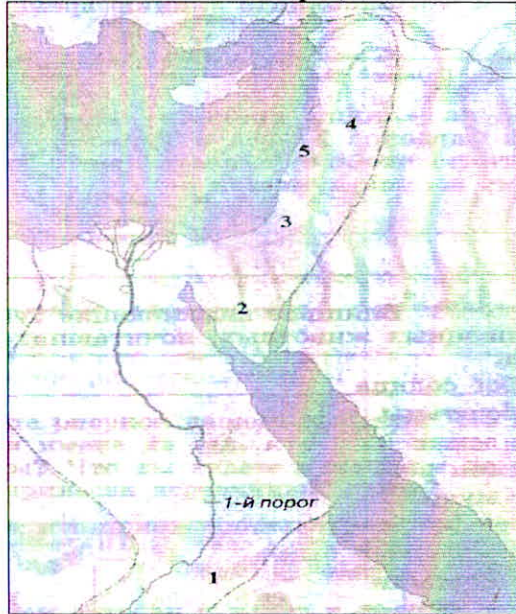
**2.5. Какие звуки не передавались на письме египтянами?**

- 0 А) согласные;  
 Б) гласные;  
 В) нет правильного ответа

**Задание 3.** За каждый правильный ответ – 2 балла, максимальный балл за задание – 14.

На контурной карте Египта:

- надпишите название реки, до которой доходили границы Египетского царства на севере в середине II тысячелетия до н.э.;
- рядом с цифрами надпишите название стран или регионов, завоеванных фараонами за пределами Египта (Финикия, Нубия, Сирия, Палестина). Например: 2 – Синайский полуостров;
- надпишите название морей, омывавших Египет.



**Задание 4.** За каждый правильный ответ – 2 балла, максимальный балл за задание – 8.

Установи соответствие между понятиями и их определениями.

1.	миф	А	наука, изучающая вещественные памятники истории
2.	жрецы	Б	сказание о богах
3.	мотыга	В	служители бога
4.	археология	Г	палка с сучком для занятия земледелием

Соответствующие буквы ответов внеси в таблицу.

1	2	3	4
Б	В	Г	А

88

**Задание 5.** В каждой строке выберите слово лишнее по смыслу, объясните почему. За каждый правильный ответ - 2 балла. Максимальный балл за задание – 6.

1.	Брахман	Шудры	Фараон	Неприкасаемые
2.	Нил	Тигр	Ганг	Вавилон
3.	Соломон	Шамаш	Анубис	Иштар

1. Фараон потому что это восточная 20  
 2. Тигр потому что это животное 05  
 3. Анубис потому что он бог 05

**Задание 6.** Вставьте пропущенные слова.

За каждый правильный ответ - 3 балла. Максимальный балл за задание – 21.  
 Археологам попался камень с надписью, часть которой была стерта.  
 Прочитайте текст и впишите в таблицу недостающие слова  
 «Я - Синахериб, великий царь, могучий царь, царь 1) \_\_\_\_\_, царь всего света, премудрый, послушный великим 2) \_\_\_\_\_, любящий справедливость, творящий 3) \_\_\_\_\_, испепеляющий врагов. Я нанес поражение царю 4) \_\_\_\_\_. Посреди битвы покинул он свой лагерь, умчался один и спас свою 5) \_\_\_\_\_. В его дворец с ликованием я вошёл. Я отворил его сокровищницу. Золотую и Серебряную 6) \_\_\_\_\_, драгоценные камни, все, что там было, я забрал как добычу. 200 тыс. человек мужчин и женщин, коней, ослов и верблюдов, крупный и мелкий скот без числа я угнал 7) \_\_\_\_\_. Не покорных я оружием побил, трупы их завесил на кольях, которые вокруг города велел поставить»

- |            |           |
|------------|-----------|
| А) красота | Ж) дочь   |
| Б) Египет  | З) боги   |
| В) Ассирия | И) фараон |
| Г) монета  | К) жизнь  |
| Д) Вавилон | Л) добро  |
|            | М) утварь |



206

Муромова В.И.  
Кузнецова Т.М.  
Шамирова О.В.

Муза —  
Купа —  
[Signature]

1	0	2	0	3	38	4	38	5	0	6	0	7	38	95
	и	б	л	д	ж	з	в							

Задание 7. Поработайте с датой.

За правильный ответ - 1 балл. Максимальный балл за задание - 1.

Используя ленту времени, ответьте на вопрос: Сколько лет прошло с момента захвата Вавилона персами до 2023 года? Ответ запишите цифрами

Задание 8. Работа с иллюстрациями.

За каждый правильный ответ - 4 балла. Максимальный балл за задание - 24.

8.1. Перед вами плакат времен Великой Отечественной войны.

Какие исторические деятели представлены на плакате?

Ответ: Солдаты, танки, зенитные батареи, артиллерия, моряки, пилоты, партизаны, рабочие, крестьяне, женщины, дети.



№ задания	1	2	3	4	5	6	7	8
Макс. балл	16	10	14	8	6	21	1	24
Балл	68	6	0	8	2	9	0	0

Всего: 318



