

В заданиях 1-3 выберите верные ответы. Ответы внесите в таблицу.

1. Какие из перечисленных дат связаны с разделами Речи Посполитой?
 1) 1686 г. 2) 1725 г. 3) 1772 г. 4) 1783 г. 5) 1793 г.
 6) 1795 г.
2. Какие из перечисленных понятий связаны с русско-турецкой войной 1877-1878 гг.?

- 1) «Азовское сидение» 4) «Плевенская эпопея»
 2) «Битва трёх Мстиславов» 5) Аахенский конгресс
 3) «Шипкинское сидение» 6) Берлинский конгресс

3. Какие из приведённых событий произошли в 1957 году?

- 1) запуск первого искусственного спутника Земли
 2) ввод советских войск в Чехословакию
 3) разгром «Антипартийной группы»
 4) «дело врачей-вредителей»
 5) введение совнархозов 6) возведение Берлинской стены

Ответы.

1	2	3
356	346	135

Максимум за задания 1-3 - 9 баллов.

4. Что с исторической точки зрения объединяет перечисленные в ряду элементы? Дайте максимально точный ответ.

4.1. Г.К. Жуков, Р.Я. Малиновский, Д.Ф. Устинов, Д.Т. Язов.

4.2. 1918 г., 1922 г., 1939 г. Ответ: 4.1.

4.2. Дата договоров СССР и Германии

Максимум за задание - 4 балла.

5. Дайте краткое обоснование ряда (что объединяет перечисленные элементы с исторической точки зрения) и укажите, какой из элементов является лишним по данному основанию.

5.1. Госприёмка, ускорение, антиалкогольная кампания, либерализация цен.

5.2. Бой на реке Ялу, Мукденское сражение, битва при Кагуле, сражение при Ляояне.

Ответ 5.1.

3) Франко-русско-японской войны. Лишнее Битва при Манчжур

Максимум за задание - 6 баллов.

6. Расположите в хронологической последовательности события.

- 1) издание указа об обязанных крестьянах
 2) отмена крепостного права в Прибалтике
 3) издание «манифеста о трёхдневной барщине»
 4) создание Крестьянского поземельного банка
 5) инвентарная реформа
 6) издание указа о вольных хлебопашцах

Ответ.

60

3	6	2	1	5	4
---	---	---	---	---	---

Максимум за задание - 6 баллов.

7. Установите соответствие между годами и императорскими университетами, открытыми в эти годы. К каждой позиции первого столбца подберите соответствующую позицию из второго столбца.

Годы	Императорские университеты
А) 1755	1) Санкт-Петербургский университет
Б) 1804	2) Томский Университет
В) 1819	3) Казанский университет
Г) 1827	4) Московский университет
Д) 1888	5) Николаевский (Саратовский) университет
	6) Александровский (Гельсингфорский) университет

Ответ.

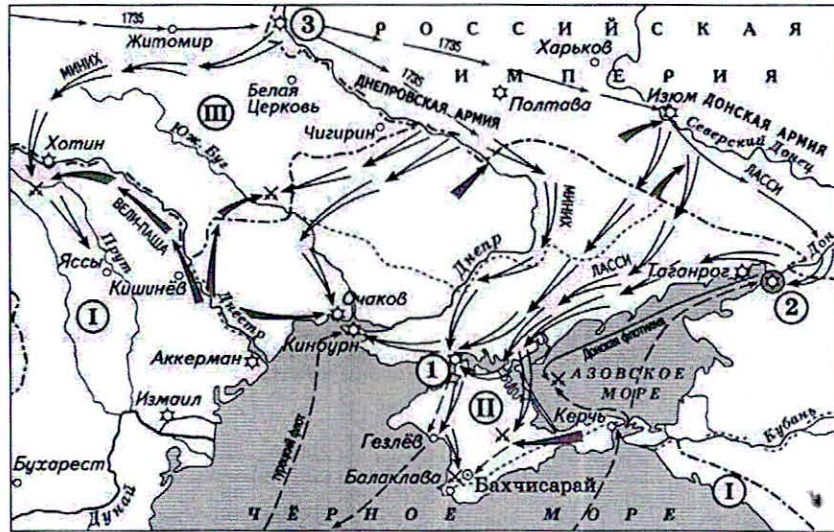
50

А	Б	В	Г	Д
4	3	1	6	2

Максимум за задание - 5 баллов.

8. Внимательно рассмотрите схему и выполните задания.

Запишите в таблицу выбранные цифры под соответствующими буквами.



8.1. В какие годы шла изображённая на схеме военная кампания? Ответ.

1735 - 1739

8.2. Назовите крепость, обозначенную на схеме цифрой I. Ответ.

Перекоп

8.3. Укажите российского монарха, в правление которого шла война, события которой обозначены на схеме. Ответ.

Анна Иоановна

8.4. Укажите современное название государства, обозначенного на схеме цифрой I. Ответ.

Турция

8.5. Укажите год окончания существования государства, обозначенного на схеме цифрой III. Ответ.

1795

8.6. Верны ли представленные ниже утверждения («да» – «нет»)? Ответы внесите в таблицу.

- 1) Представленные на схеме события происходили одновременно с созданием первого русского профессионального театра.
- 2) На схеме указана фамилия российского военачальника, участвовавшего в ноябре 1740 года в дворцовом перевороте.
- 3) Союзником России в данной войне была Священная Римская империя.
- 4) Присоединение к России государства, обозначенного на схеме цифрой II, произошло в 1801 году.
- 5) На схеме указано название города – места сухопутного генерального сражения Северной войны.
- 6) Цифрой 2 на схеме обозначен город Лзов.
- 7) Военная кампания, обозначенная на схеме, завершилась подписанием Абоского мира.

Ответ.

1	2	3	4	5	6	7
нет	да	да	нет	да	да	нет

Максимум за задание – 12 баллов.

9. Перед вами отрывки из международных договоров России и СССР, заключённых с Японией. Определите, при каких правителях России/СССР были подписаны данные договоры. Ответы внесите в предложенную ниже таблицу. Впишите во второй столбец таблицы напротив названия договора буквенное обозначение его отрывка, в третьем укажите правителя России/СССР.

А) «Российское императорское правительство, признавая за Японией в Корее преобладающие интересы политические, военные и экономические, обязуется не вступаться и не препятствовать тем мерам руководства, покровительства и надзора, кои императорское японское правительство могло бы почтёбно и необходимо принять в Корее. Российское императорское правительство уступает императорскому японскому правительству, с согласия китайского правительства, аренду Порт-Артура, Талиена и прилегающих территорий и территориальных вод».

Б) «Отныне границы между Россией и Японией будут проходить между островами Итурупом и Урупом. Весь остров Итуруп принадлежит Японии, а весь остров Уруп и прочие Курильские острова к северу составляют владение России. Что касается острова Крафто (Сахалина), то он остаётся неразделённым между Россией и Японией, как было до сего времени. <...> Как Русский в Японии, так и Японец в России всегда свободны и не подвергаются никаким стеснениям».

В) «Его Величество Император Всероссийский и Его Величество Император Японский, желая положить конец многочисленным неудобствам, проистекающим от совместного владения островом Сахалином, и упрочить существующее между Ними доброе согласие, постановили заключить трактат о взаимной уступке, со стороны Его Величества Императора Всероссийского группы Курильских островов, а со стороны Его Величества Императора Японского Его прав на остров Сахалин (Крафто), и назначили на сей конец своими Уполномоченными, а именно...».

Г) «Состояние войны между Союзом Советских Социалистических Республик и Японией прекращается со дня вступления в силу настоящей между ними восстанавливаются мир и добрососедские дружественные отношения. <...> Союз Советских Социалистических Республик поддержит просьбу Японии о принятии её в члены Организации Объединённых Наций».

Ответ.

168

Договор	Отрывок (буква)	Правитель России/СССР
Симодский трактат	Б	Николай I
Петербургский договор	В	Александр II
Портсмутский договор	А	Николай II
Московская декларация	Г	Сталин

Максимум за задание – 16 баллов.

10. В таблице помещены названия известных наступательных операций, осуществлённых Красной Армией в годы Великой Отечественной войны. Заполните таблицу, вписав в неё арабские цифры, которыми обозначены сроки проведения операций, буквенные обозначения основных целей каждой операции и римские цифры, которыми обозначены изображения, связанные с той или иной операцией.

Сроки проведения	Основная цель операции	Иллюстрации
------------------	------------------------	-------------

1) август – сентябрь 1943 г.	А) Разгром фашистских войск под Сталинградом	I	
2) ноябрь 1942 г. – февраль 1943 г.	Б) Освобождение Белгорода и Харькова	II	
3) июнь – август 1944 г.	В) Дезорганизация перевозок в тылу врага	III	
4) август 1943 г.	Г) Освобождение Белоруссии	IV	

Ответ.

Название военных операций	Цифровое обозначение сроков проведения	Буквенное обозначение целей	Цифровое обозначение иллюстрации
«Багратион»	3	Г	II

125

«Рельсовая война»	1	В	IV
«Полководец Румянцев»	4	Б	I
«Уран»	2	А	III

Максимум за задание – 12 баллов.

11. Вам предстоит работать с высказываниями историков и современников о событиях и деятелях отечественной истории. Выберите из них одно, которое станет темой вашего сочинения-эссе.

При написании работы исходите из того, что жюри, оценивая ваше эссе, будет руководствоваться следующими критериями.

1. Раскрытие смысла высказывания: постановка содержащейся в высказывании исторической проблемы.
2. Выражение своей точки зрения по сформулированной проблеме и её аргументация при помощи исторических знаний.
3. Творческий характер восприятия темы, её осмысления.
4. Знание различных точек зрения по раскрываемой проблеме.
5. Грамотность использования исторических фактов и терминов.
6. Наличие выводов по поставленной проблеме.

1. «На протяжении всего IX и первой половины X вв. шёл (и практически завершился) один и тот же процесс формирования... государственного начала Руси. Ни набег мадьяр, ни наезды варягов или набег печенегов не могли ни остановить, ни существенным образом видоизменить ход этого процесса»

(Б.А. Рыбаков).

2. «Весной 1611 г. стал ясным полный провал восточной политики Речи Посполитой в плане... подчинения Русского государства польско-литовскому политическому влиянию. Именно избранная поляками линия действий привела к тому, что русское общество сплотилось для борьбы с Речью Посполитой»

(Б.Н. Флоря).

3. «Вопрос о выборе между революционным и реформистским путями к достижению поставленных целей встаёт перед освободительным движением России с первых его шагов. Определённым разделом здесь стали 60–70-е гг. XIX века» (В.А. Дьяков).

4. «Планы Гитлера и перспективы успешного завершения войны Германией рухнули, видимо, в октябре 1941 года и, безусловно, с началом русского контрнаступления в битве за Москву в декабре 1941 года» (К. Рейнгардт).

111 1106

5. «К середине 1980-х гг. безуспешность попыток улучшения экономики и технологическое отставание от Запада вызвали глубокое чувство озабоченности в руководстве Советского Союза и готовность на преобразования. Впервые реформы в России становились исторической необходимостью» (Д. Самтер).

Максимум за задание – 30 баллов.

Максимум за работу – 100 баллов.

Итого: 67 (баллов)

Председатель жюри: М.И. Лидина 134

Члены жюри: К.И. Кузнецова Т.И. М.,
М.И. Шадров и О.В.

В заданиях 1-3 выберите верные ответы. Ответы внесите в таблицу.

1. Какие из перечисленных дат связаны с разделами Речи Посполитой?

- 1) 1686 г. 2) 1725 г. 3) 1772 г. 4) 1783 г. 5) 1793 г.
6) 1795 г.

2. Какие из перечисленных понятий связаны с русско-турецкой войной 1877-1878 гг.?

- 1) «Азовское сидение» 4) «Плевенская эпопея»
2) «Битва трёх Мстиславов» 5) Аахенский конгресс
3) «Шипкинское сидение» 6) Берлинский конгресс

3. Какие из приведённых событий произошли в 1957 году?

- 1) запуск первого искусственного спутника Земли
2) ввод советских войск в Чехословакию
3) разгром «Антипартийной группы»
4) «дело врачей-вредителей»
5) введение совнархозов 6) возведение Берлинской стены

Ответы.

1	2	3
1, 3, 4	2, 4, 3	1, 3, 5

Максимум за задания 1-3 - 9 баллов.

4. Что с исторической точки зрения объединяет перечисленные в ряду элементы? Дайте максимально точный ответ.

4.1. Г.К. Жуков, Р.Я. Малиновский, Д.Ф. Устинов, Д.Т. Язов.

4.2. 1918 г., 1922 г., 1939 г. Ответ. 4.1.

Министры обороны СССР
4.2. Даты договоров СССР и Германии

Максимум за задание - 4 балла.

5. Дайте краткое обоснование ряда (что объединяет перечисленные элементы с исторической точки зрения) и укажите, какой из элементов является лишним по данному основанию.

5.1. Госприёмка, ускорение, антиалкогольная кампания, либерализация цен.

5.2. Бой на реке Ялу, Мукденское сражение, битва при Кагуле, сражение при Ляояне.

Ответ 5.1.

5.2.

Максимум за задание - 6 баллов.

6. Расположите в хронологической последовательности события.

- 1) издание указа об обязанных крестьянах
2) отмена крепостного права в Прибалтике
3) издание «манифеста о трёхдневной барщине»
4) создание Крестьянского поземельного банка
5) инвентарная реформа
6) издание указа о вольных хлебопашцах

Ответ.

3	6	2	1	4, 5	4
---	---	---	---	------	---

Максимум за задание - 6 баллов.

7. Установите соответствие между годами и императорскими университетами, открытыми в эти годы. К каждой позиции первого столбца подберите соответствующую позицию из второго столбца.

Годы	Императорские университеты
А) 1755	1) Санкт-Петербургский университет
Б) 1804	2) Томский Университет
В) 1819	3) Казанский университет
Г) 1827	4) Московский университет
Д) 1888	5) Николаевский (Саратовский) университет
	6) Александровский (Гельсингфорский) университет

Ответ.

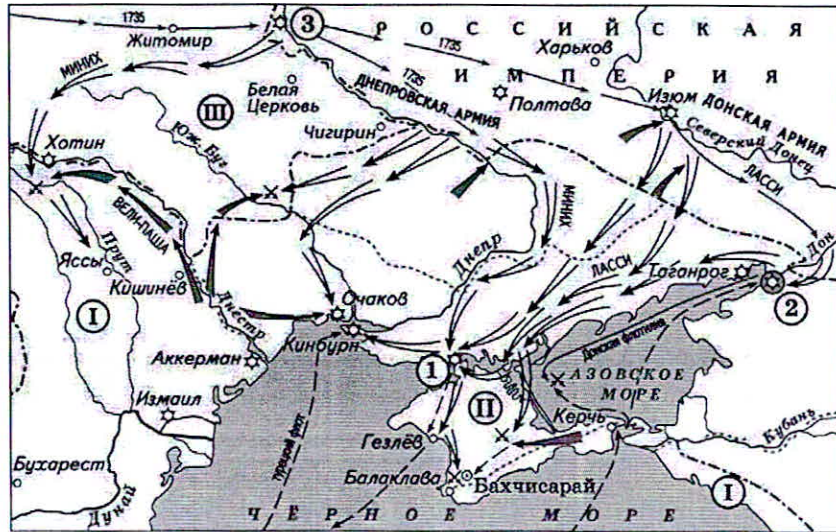
А	Б	В	Г	Д
4	4, 3	1	6	2

Максимум за задание - 5 баллов.

8. Внимательно рассмотрите схему и выполните задания.

Запишите в таблицу выбранные цифры под соответствующими буквами.

И 1104



8.1. В какие годы шла изображённая на схеме военная кампания? Ответ.

1735 - 1739 гг.

8.2. Назовите крепость, обозначенную на схеме цифрой I. Ответ.

Перекоп

8.3. Укажите российского монарха, в правление которого шла война, события которой обозначены на схеме. Ответ.

Анна Иоанновна

8.4. Укажите современное название государства, обозначенного на схеме цифрой I. Ответ.

Турция

8.5. Укажите год окончания существования государства, обозначенного на схеме цифрой III. Ответ.

1795 г.

8.6. Верны ли представленные ниже утверждения («да» – «нет»)? Ответы внесите в таблицу.

- 1) Представленные на схеме события происходили одновременно с созданием первого русского профессионального театра.
- 2) На схеме указана фамилия российского военачальника, участвовавшего в ноябре 1740 года в дворцовом перевороте.
- 3) Союзником России в данной войне была Священная Римская империя.
- 4) Присоединение к России государства, обозначенного на схеме цифрой II, произошло в 1801 году.
- 5) На схеме указано название города – места сухопутного генерального сражения Северной войны.
- 6) Цифрой 2 на схеме обозначен город Азов.
- 7) Военная кампания, обозначенная на схеме, завершилась подписанием Абоского мира.

Ответ.

1	2	3	4	5	6	7
нет	да	нет	нет	да	да	нет

Максимум за задание – 12 баллов.

9. Перед вами отрывки из международных договоров России и СССР, заключённых с Японией. Определите, при каких правителях России/СССР были подписаны данные договоры. Ответы внесите в предложенную ниже таблицу. Впишите во второй столбец таблицы напротив названия договора буквенное обозначение его отрывка, в третьем укажите правителя России/СССР.

А) «Российское императорское правительство, признавая за Японией в Корее преобладающие интересы политические, военные и экономические, обязуется не вступаться и не препятствовать тем мерам руководства, покровительства и надзора, кои императорское японское правительство могло бы почтёбно и необходимо принять в Корее. Российское императорское правительство уступает императорскому японскому правительству, с согласия китайского правительства, аренду Порт-Артура, Талиена и прилегающих территорий и территориальных вод».

Б) «Отныне границы между Россией и Японией будут проходить между островами Итурупом и Урупом. Весь остров Итуруп принадлежит Японии, а весь остров Уруп и прочие Курильские острова к северу составляют владение России. Что касается острова Крафто (Сахалина), то он остаётся неразделённым между Россией и Японией, как было до сего времени. <...> Как Русский в Японии, так и Японец в России всегда свободны и не подвергаются никаким стеснениям».

115

В) «Его Величество Император Всероссийский и Его Величество Император Японский, желая положить конец многочисленным неудобствам, проистекающим от совместного владения островом Сахалином, и упрочить существующее между Ними доброе согласие, постановили заключить трактат о взаимной уступке, со стороны Его Величества Императора Всероссийского группы Курильских островов, а со стороны Его Величества Императора Японского Его прав на остров Сахалин (Крафто), и назначили на сей конец своими Уполномоченными, а именно...»

Г) «Состояние войны между Союзом Советских Социалистических Республик и Японией прекращается со дня вступления в силу настоящей между ними восстанавливаются мир и добрососедские дружественные отношения. <...> Союз Советских Социалистических Республик подлержит просьбу Японии о принятии её в члены Организации Объединённых Наций».





Ответ.

Договор	Отрывок (буква)	Правитель России/СССР
Симодский трактат	Б Б	Николай I
Петербургский договор	А В	Александр II
Портсмутский договор	Б А	Николай II
Московская декларация	Г	Н.С. Хрущёв

Максимум за задание – 16 баллов.

10. В таблице помещены названия известных наступательных операций, осуществлённых Красной Армией в годы Великой Отечественной войны. Заполните таблицу, вписав в неё арабские цифры, которыми обозначены сроки проведения операций, буквенные обозначения основных целей каждой операции и римские цифры, которыми обозначены изображения, связанные с той или иной операцией.

Сроки проведения	Основная цель операции	Иллюстрации
------------------	------------------------	-------------

1) август – сентябрь 1943 г.	А) Разгром фашистских войск под Сталинградом	I	
2) ноябрь 1942 г. – февраль 1943 г.	Б) Освобождение Белгорода и Харькова	II	
3) июнь – август 1944 г.	В) Дезорганизация перевозок в тылу врага	III	
4) август 1943 г.	Г) Освобождение Белоруссии	IV	

Ответ.

Название военных операций	Цифровое обозначение сроков проведения	Буквенное обозначение целей	Цифровое обозначение иллюстрации
«Багратион»	3	Г	II

12.5

«Рельсовая война»	1	В	IV
«Полководец Румянцев»	4	Б	I
«Уран»	2	А	III

Максимум за задание – 12 баллов.

11. Вам предстоит работать с высказываниями историков и современников о событиях и деятелях отечественной истории. Выберите из них одно, которое станет темой вашего сочинения-эссе.

При написании работы исходите из того, что жюри, оценивая ваше эссе, будет руководствоваться следующими критериями.

1. Раскрытие смысла высказывания: постановка содержащейся в высказывании исторической проблемы.
2. Выражение своей точки зрения по сформулированной проблеме и её аргументация при помощи исторических знаний.
3. Творческий характер восприятия темы, её осмысления.
4. Знание различных точек зрения по раскрываемой проблеме.
5. Грамотность использования исторических фактов и терминов.
6. Наличие выводов по поставленной проблеме.

1. «На протяжении всего IX и первой половины X вв. шёл (и практически завершился) один и тот же процесс формирования... государственного начала Руси. Ни набег мадьяр, ни наезды варягов или набег печенегов не могли ни остановить, ни существенным образом видоизменить ход этого процесса»

(Б.А. Рыбаков).

2. «Весной 1611 г. стал ясным полный провал восточной политики Речи Посполитой в плане... подчинения Русского государства польско-литовскому политическому влиянию. Именно избранная поляками линия действий привела к тому, что русское общество сплотилось для борьбы с Речью Посполитой»

(Б.Н. Флоря).

3. «Вопрос о выборе между революционным и реформистским путями к достижению поставленных целей встаёт перед освободительным движением России с первых его шагов. Определённым разделом здесь стали 60–70-е гг. XIX века» (В.А. Дьяков).

4. «Планы Гитлера и перспективы успешного завершения войны Германией рухнули, видимо, в октябре 1941 года и, безусловно, с началом русского контрнаступления в битве за Москву в декабре 1941 года» (К. Рейнгардт).

МНОУ

5. «К середине 1980-х гг. безуспешность попыток улучшения экономики и технологическое отставание от Запада вызвали глубокое чувство озабоченности в руководстве Советского Союза и готовность на преобразования. Впервые реформы в России становились исторической необходимостью» (Д. Самтер).

Максимум за задание – 30 баллов.

Максимум за работу – 100 баллов.

Итого: 53 (баллов)

Председатель жюри: М.И. Дмитриева В.И.

Члены жюри: В.И. Кузнецов Т.М. Макарова О.В.

В заданиях 1-3 выберите верные ответы. Ответы внесите в таблицу.

1. Какие из перечисленных дат связаны с разделами Речи Посполитой?

- 1) 1686 г. 2) 1725 г. 3) 1772 г. 4) 1783 г. 5) 1793 г.
- 6) 1795 г.

2. Какие из перечисленных понятий связаны с русско-турецкой войной 1877-1878 гг.?

- 1) «Азовское сидение» 4) «Плевенская эпопея»
- 2) «Битва трёх Мстиславов» 3) Аахенский конгресс
- 3) «Шипкинский сидение» 6) Берлинский конгресс

3. Какие из приведённых событий произошли в 1957 году?

- 1) запуск первого искусственного спутника Земли
- 2) ввод советских войск в Чехословакию
- 3) разгром «Антипартийной группы»
- 4) «дело врачей-вредителей»
- 5) введение совнархозов 6) возведение Берлинской стены

Ответы.

1	2	3
12356	345	13 5

Максимум за задания 1-3 - 9 баллов.

4. Что с исторической точки зрения объединяет перечисленные в ряду элементы? Дайте максимально точный ответ.

- 4.1. Г.К. Жуков, Р.Я. Малиновский, Д.Ф. Устинов, Д.Т. Язов.
- 4.2. 1918 г., 1922 г., 1939 г. Ответ. 4.1. Советские генералы

4.2. Великие даты в истории России

Максимум за задание - 4 балла.

5. Дайте краткое обоснование ряда (что объединяет перечисленные элементы с исторической точки зрения) и укажите, какой из элементов является лишним по данному основанию.

- 5.1. Госприёмка, ускорение, антиалкогольная кампания, либерализация цен.
- 5.2. Бой на реке Ялу, Мукденское сражение, битва при Кагуле, сражение при Ляояне.

Ответ 5.1. Политика СССР (социальная)

5.2.

38. Битва при Кагуле - Мукденской война. Битва при Кагуле

Максимум за задание - 6 баллов.

6. Расположите в хронологической последовательности события.

- 1) издание указа об обязанных крестьянах 5
- 2) отмена крепостного права в Прибалтике 4
- 3) издание «манифеста о трёхдневной барщине» 2
- 4) создание Крестьянского поземельного банка 3
- 5) инвентарная реформа 6
- 6) издание указа о вольных хлебопашцах 1

Ответ.

6	3	4	2	1	5
---	---	---	---	---	---

Максимум за задание - 6 баллов.

7. Установите соответствие между годами и императорскими университетами, открытыми в эти годы. К каждой позиции первого столбца подберите соответствующую позицию из второго столбца.

Годы	Императорские университеты
А) 1755	1) Санкт-Петербургский университет
Б) 1804	2) Томский Университет
В) 1819	3) Казанский университет
Г) 1827	4) Московский университет
Д) 1888	5) Николаевский (Саратовский) университет
	6) Александровский (Гельсингфорский) университет

Ответ.

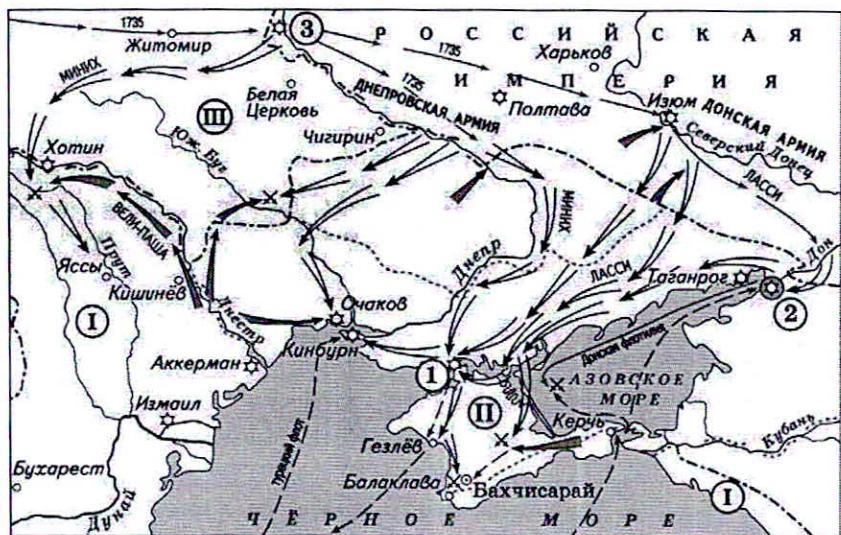
А	Б	В	Г	Д
4	3	10	6	2

Максимум за задание - 5 баллов.

8. Внимательно рассмотрите схему и выполните задания.

Запишите в таблицу выбранные цифры под соответствующими буквами.

И 1105



- 8.1. В какие годы шла изображённая на схеме военная кампания? **Ответ.**
1853-1856
- 8.2. Назовите крепость, обозначенную на схеме цифрой I. **Ответ.**
Анапа
- 8.3. Укажите российского монарха, в правление которого шла война, события которой обозначены на схеме. **Ответ.**
Александр II
- 8.4. Укажите современное название государства, обозначенного на схеме цифрой II. **Ответ.**
Республика Турция
- 8.5. Укажите год окончания существования государства, обозначенного на схеме цифрой III. **Ответ.**
1795
- 8.6. Верны ли представленные ниже утверждения («да» – «нет»)? Ответы внесите в таблицу.

- 1) Представленные на схеме события происходили одновременно с созданием первого русского профессионального театра. —
- 2) На схеме указана фамилия российского военачальника, участвовавшего в ноябре 1740 года в дворцовом перевороте. ++
- 3) Союзником России в данной войне была Священная Римская империя.
- 4) Присоединение к России государства, обозначенного на схеме цифрой II, произошло в 1801 году. +
- 5) На схеме указано название города – места сухопутного генерального сражения Северной войны.
- 6) Цифрой 2 на схеме обозначен город Азов. +
- 7) Военная кампания, обозначенная на схеме, завершилась подписанием Абоского мира. +

65

Ответ.

1	2	3	4	5	6	7
—	+	—	+	—	+	+

Максимум за задание – 12 баллов.

9. Перед вами отрывки из международных договоров России и СССР, заключённых с Японией. Определите, при каких правителях России/СССР были подписаны данные договоры. Ответы внесите в предложенную ниже таблицу. Впишите во второй столбец таблицы напротив названия договора буквенное обозначение его отрывка, в третьем укажите правителя России/СССР.

А) «Российское императорское правительство, признавая за Японией в Корее преобладающие интересы политические, военные и экономические, обязуется не вступаться и не препятствовать тем мерам руководства, покровительства и надзора, кои императорское японское правительство могло бы почтительно потребовать в Корее. Российское императорское правительство уступает императорскому японскому правительству, с согласия китайского правительства, аренду Порт-Артура, Талиена и прилегающих территорий и территориальных вод».

Б) «Отныне границы между Россией и Японией будут проходить между островами Итурупом и Урупом. Весь остров Итуруп принадлежит Японии, а весь остров Уруп и прочие Курильские острова к северу составляют владение России. Что касается острова Крафто (Сахалина), то он остаётся неразделённым между Россией и Японией, как было до сего времени. <...> Как Русский в Японии, так и Японец в России всегда свободны и не подвергаются никаким стеснениям».

ИМО5

В) «Его Величество Император Всероссийский и Его Величество Император Японский, желая положить конец многочисленным неудобствам, проистекающим от совместного владения островом Сахалином, и упрочить существующее между Ними доброе согласие, постановили заключить трактат о взаимной уступке, со стороны Его Величества Императора Всероссийского группы Курильских островов, а со стороны Его Величества Императора Японского Его прав на остров Сахалин (Крафто), и назначили на сей конец своими Уполномоченными, а именно...».

Г) «Состояние войны между Союзом Советских Социалистических Республик и Японией прекращается со дня вступления в силу настоящей между ними восстанавливаются мир и добрососедские дружественные отношения. <...> Союз Советских Социалистических Республик поддержит просьбу Японии о принятии её в члены Организации Объединённых Наций».





Ответ.

Договор	Отрывок (буква)	Правитель России/СССР
Симодский трактат	<i>Б</i>	<i>Михаил I</i>
Петербургский договор	<i>В</i>	<i>Александр II</i>
Портсмутский договор	<i>А</i>	<i>Михаил II</i>
Московская декларация	<i>БГ</i>	<i>Крушев</i>

Максимум за задание – 16 баллов.

10. В таблице помещены названия известных наступательных операций, осуществлённых Красной Армией в годы Великой Отечественной войны. Заполните таблицу, вписав в неё арабские цифры, которыми обозначены сроки проведения операций, буквенные обозначения основных целей каждой операции и римские цифры, которыми обозначены изображения, связанные с той или иной операцией.

Сроки проведения	Основная цель операции	Иллюстрации
------------------	------------------------	-------------

1) август – сентябрь 1943 г.	А) Разгром фашистских войск под Сталинградом	I	
2) ноябрь 1942 г. – февраль 1943 г.	Б) Освобождение Белгорода и Харькова	II	
3) июнь – август 1944 г.	В) Дезорганизация перевозок в тылу врага	III	
4) август 1943 г.	Г) Освобождение Белоруссии	IV	

Ответ.

Название военных операций	Цифровое обозначение сроков проведения	Буквенное обозначение целей	Цифровое обозначение иллюстрации
«Багратион»	<i>3</i>	<i>БГ</i>	<i>II</i>

И 1105

120

«Рельсовая война»	1	B	IV
«Полководец Румянцев»	34	B	XI
«Уран»	A2	A	III

Максимум за задание – 12 баллов.

11. Вам предстоит работать с высказываниями историков и современников о событиях и деятелях отечественной истории. Выберите из них одно, которое станет темой вашего сочинения-эссе.

При написании работы исходите из того, что жюри, оценивая ваше эссе, будет руководствоваться следующими критериями.

1. Раскрытие смысла высказывания: постановка содержащейся в высказывании исторической проблемы.
2. Выражение своей точки зрения по сформулированной проблеме и её аргументация при помощи исторических знаний.
3. Творческий характер восприятия темы, её осмысления.
4. Знание различных точек зрения по раскрываемой проблеме.
5. Грамотность использования исторических фактов и терминов.
6. Наличие выводов по поставленной проблеме.

1. «На протяжении всего IX в. и первой половины X вв. шёл (и практически завершился) один и тот же процесс формирования... государственного начала Руси. Ни набеги мажар, ни наезды варягов или набеги печенегов не могли ни остановить, ни существенным образом видоизменить ход этого процесса»

(Б.А. Рыбаков).

2. «Весной 1611 г. стал ясным полный провал восточной политики Речи Посполитой в плане... подчинения Русского государства польско-литовскому политическому влиянию. Именно избранная поляками линия действий привела к тому, что русское общество сплотилось для борьбы с Речью Посполитой»

(Б.Н. Флоря).

3. «Вопрос о выборе между революционным и реформистским путями к достижению поставленных целей встаёт перед освободительным движением России с первых его шагов. Определённым разделом здесь стали 60–70-е гг. XIX века» (В.А. Дьяков).

4. «Планы Гитлера и перспективы успешного завершения войны Германией рухнули, видимо, в октябре 1941 года и, безусловно, с началом русского контрнаступления в битве за Москву в декабре 1941 года» (К. Рейнгардт).

5. «К середине 1980-х гг. безуспешность попыток улучшения экономики и технологическое отставание от Запада вызвали глубокое чувство озабоченности в руководстве Советского Союза и готовность на преобразования. Впервые реформы в России становились исторической необходимостью» (Д. Самтер).

Максимум за задание – 30 баллов.

Максимум за работу – 100 баллов.

Итого: 51 (баллов)

Председатель жюри: Мухоморова В.И.

Члены жюри: Кузнецова Т.М., Ш. Шакиров О.В.