


Фамилия	Имя	Отчество	Фамилия	Имя	Отчество	Класс обучения	Предмет	Статус	Результат	Место
Антонов	Илья	Сергеевич	Савина	Арианна	Николаевна	9Б	География	Победитель	35,5	1
Лазухин	Павел	Павлович	Савина	Арианна	Николаевна	9А	География	Призер	25	2
Хлынова	Вероника	Евгеньевна	Савина	Арианна	Николаевна	9Б	География	участник	22,5	3
Зверева	Дарья	Андреевна	Савина	Арианна	Николаевна	9А	География	участник	22	4
Черникова	Кристина	Алексеевна	Савина	Арианна	Николаевна	9А	география	участник	20,5	5
Караваев	Захар	Максимович	Савина	Арианна	Николаевна	9А	география	участник	20,5	5
Демченкова	Виктория	Павловна	Савина	Арианна	Николаевна	9А	география	участник	19	6
Кудияров	Григорий	Олегович	Савина	Арианна	Николаевна	9А	география	участник	18,5	7
Викулин	Андрей	Денисович	Савина	Арианна	Николаевна	9Б	география	участник	16	8
Чурубров	Николай	Дмитриевич	Савина	Арианна	Николаевна	9А	география	участник	16	8
Викулова	Анита	Сергеевна	Савина	Арианна	Николаевна	9А	география	участник	14,5	9
Шишкина	Лилия	Эдуардовна	Савина	Арианна	Николаевна	9А	география	участник	11	10
Милешкевич	Дарья	Сергеевна	Савина	Арианна	Николаевна	9А	география	участник	10,5	11
Герасимчик	Богдан	Алексеевич	Савина	Арианна	Николаевна	9Б	география	участник	9	12
Моисеенко	Мария	Михайловна	Савина	Арианна	Николаевна	9А	география	участник	9	12
Подлевский	Денис	Вячеславович	Савина	Арианна	Николаевна	9Б	география	участник	8	13
Поздняков	Даниил	Сергеевич	Савина	Арианна	Николаевна	9Б	география	участник	6	14



35,55

ШИФР 19016

Школьный этап всероссийской олимпиады школьников в 2023 -2024 уч. г. по географии 9 класс

Общее время выполнения работы – 90 минут.

На выполнение заданий I (тестового) раунда отводится 30 минут.

На II (аналитический) раунд отводится 60 минут.

При ответе на задания запрещено пользоваться школьными и прочими атласами, справочными материалами, а также учебниками, мобильными телефонами, карманными компьютерами! Желаем успехов!

I РАУНД (ТЕСТОВЫЙ)

1. Выберите вариант ответа, в котором перечислены только курортные города России:

- 1) Нарьян-Мар, Салехард, Магадан, Ханты-Мансийск;
- 2) Ялта, Геленджик, Анапа, Ейск;
- 3) Кемерово, Соль-Илецк, Магнитогорск, Новокузнецк;
- 4) Карловы-Вары, Баден-Баден, Висбаден, Виши.

2. В каком из вариантов ответа указан регион с наиболее благоприятными условиями для жизни населения:

- 1) Дальний Восток;
- 2) Среднесибирское плоскогорье;
- 3) Центральная и Юго-Западная часть Восточно-Европейской равнины;
- 4) Кольский полуостров.

3. Какой населённый пункт России известен благодаря платкам с ярким рисунком?

- 1) Гжель;
- 2) Павловский Посад;
- 3) Городец;
- 4) Жостово;

4. Выберите название полуострова, на котором проживает народ под названием иганасаны:

- 1) п-ов Таймыр;
- 2) Чукотский п-ов;
- 3) п-ов Камчатка;
- 4) Кольский п-ов.

5. «Северный поток», «Ямал – Европа», «Голубой поток», «Турецкий поток» — это названия:

- 1) трансевропейских автомагистралей;
- 2) крупных океанических маршрутов;
- 3) туристических маршрутов;
- 4) газопроводов.

6. Баргузинский заповедник расположен:

- 1) в Забайкалье;
- 2) на Урале;
- 3) на Камчатке;
- 4) на Кавказе;

7. Выберите город России, в котором наблюдается наибольшее число дней с туманами:

- 1) Мурманск;
- 2) Санкт-Петербург;
- 3) Калининград;
- 4) Южно-Курильск.

8. Выберите территорию с наименьшими запасами древесины:

- 1) Амурская обл.;
- 2) Волгоградская обл.;
- 3) Вологодская обл.;
- 4) Московская обл.

9. Какое море не омывает берега России?

- а) Белое б) Карское в) Японское г) Жёлтое

10. Для какой природной зоны характерны подзолистые почвы?

- 1) тундра;
- 2) тайга;
- 3) широколиственные леса;
- 4) лесостепь

11. Как называется возвышенность, на которой берёт начало Волга?

- 1) Приволжская;
- 2) Смоленско-Московская;
- 3) Валдайская;
- 4) Среднерусская;

12. Где растут амурский бархат, железная берёза, маньчжурский орех?

- 1) в низовьях Волги;
- 2) в уссурийской тайге;
- 3) на Кольском полуострове;
- 4) на полуострове Таймыр;

ШИФР 19016

Школьный этап всероссийской олимпиады школьников в 2023 -2024 уч. г. по географии 9 класс

13. Возле берегов какого материка расположен остров Тасмания?

- 1) Северная Америка;
- 2) Африка;
- 3) Южная Америка;
- 4) Австралия;

14. В каком из угольных бассейнов России добывается уголь с наиболее оптимальными показателями в соотношении калорийность/зольность/себестоимость добычи:

- 1) Подмосковский;
- 2) Печорский;
- 3) Кузбасс;
- 4) Канско-Ачинский.

15. Выберите правильное сочетание «горная система – высочайшая точка»:

- 1) Альпы – г. Аконкагуа (6960 м);
- 2) Алтай – г. Белуха (4506 м);
- 3) Большой Кавказ – Пик Коммунизма (7495 м);
- 4) Альпы – Эльбрус (5642 м).

16. Выберите физико-географический объект, на котором площадь покровного оледенения наибольшая:

- 1) архипелаг Земля Франца Иосифа;
- 2) остров Врангеля;
- 3) архипелаг Новая Земля;
- 4) архипелаг Северная Земля.

17. Иглу является традиционным жилищем:

- 1) индейцев;
- 2) эскимосов;
- 3) чукчей;
- 4) папуасов;

18. Выберите верное утверждение.

- 1) Муссоны дуют с океана на материк летом;
- 2) Бризы днём дуют с суши на море;
- 3) Муссоны весь год дуют с океана на материк;
- 4) Бризы ночью дуют с моря на сушу.

19. Укажите, формы рельефа, созданные эоловыми процессами:

- 1) овраг, балка, промоина;
- 2) алас, булгуннях, быллары;
- 3) барханы, дюны, останцы;
- 4) тарыны, гряда, овраг;

20. Выберите вариант ответа, в котором представлены порты, расположенные на Северном морском пути:

- 1) Новороссийск, Керчь, Ейск;
- 2) Мурманск, Диксон, Тикси;
- 3) Высоцк, Приморск, Усть-Луга;
- 4) Южно-Сахалинск, Ванино, Махачкала.

Вопрос	1	2	3	4	5	6	7	8	9	10	11	12	13	14	15	16	17	18	19	20
Ответ	2	3	2	1	4	2	2	4	5	3	1	2	4	3	4	4	3	4	1	2

+++ ++ - - - - + - - - + + - - - - +
КОЛИЧЕСТВО БАЛЛОВ ЗА ТЕСТОВЫЙ РАУНД – 20

Аналитический раунд

На II (аналитический) раунд отводится 60 минут. Количество баллов-42

Задание №1.

Вашему вниманию предлагаются вопросы и задания, связанные с Калининградской областью. (6 баллов)

5) Почему в Подмосковье, расположенном на одной широте с Калининградской областью, садоводы гораздо реже пытаются выращивать абрикосы и виноград?

Почему это в Подмосковье? Потому что климат там мягче, чем в Калининградской области.

Школьный этап всероссийской олимпиады школьников в 2023 - 2024 уч. г. по географии 9 класс

- 2) Назовите самые распространённые в Калининградской области породы деревьев (укажите одно название мелколиственной породы и одно название темно - хвойной породы). берёза, дуб 15
- 3) Почему деревья на Куршской косе наклонены с запада на восток? из-за ветра 15
- 4) Назовите две страны, которые нужно пересечь, чтобы доехать из Калининграда до Смоленской области – ближайшей к нашему региону области Российской Федерации (на московском направлении). Польша, Беларусь 15
- 5) Какие особенности условий водообмена приводят к тому, что Куршский залив является пресноводным, а Калининградский – солёным?

Задание №2.

Определите объект по описанию

Примечание для учащихся: все ответы необходимо писать в именительном падеже. Если в вопросе нужно указать название, например крупного озера, тогда указывать только его название – «Байкал», без уточнения «озеро Байкал».

Внимание! Ответы с орфографическими ошибками не засчитываются.

Внимательно прочитайте текст.

Ответьте на вопросы, связанные с текстом.

Территорию этого субъекта РФ осваивали выходцы из Новгорода, сформировавшие уникальный субэтнос знаменитых мореплавателей и мастеров деревянного зодчества. Форму парусных судов этих мореплавателей заимствовали полярные исследователи вплоть до XX в.

Административный центр этого субъекта РФ – крупный порт и промышленный центр, отмеченный на одной из денежных купюр России, со времён Ивана Грозного является важным военным и торговым форпостом страны. Город – спутник центра славится производством уникального вида продукции машиностроения.

Из известных выходцев данной земли стоит упомянуть знаменитого учёного. В честь него здесь названо единственное в этой части света промышленное месторождение самого твёрдого минерала. Также на данной территории разрабатывается месторождение бокситов. В хозяйственном отношении эту территорию именуют «цехом» продукции, производимой из ценного возобновимого природного ресурса, которым богата данная территория. Про этот субъект РФ смело можно сказать, что он расположен ближе всего к космосу благодаря космодрому, построенному на его территории.

№	Вопрос	Ответ
1	О каком субъекте РФ идёт речь?	Амурская обл.
2-3	Как называется субэтнос, представители которого, проживают на данной территории? Как называются парусные суда мореплавателей данного субэтноса?	Калмыки.

Школьный этап всероссийской олимпиады школьников в 2023 - 2024 уч. г. по географии 9 класс

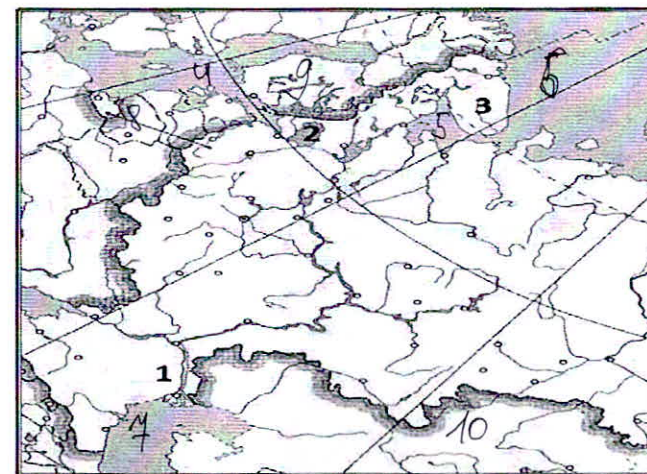
4	Укажите название города – спутника административного центра данного субъекта РФ.	
5	Укажите фамилию знаменитого российского учёного, выходца данной земли.	
6	Месторождение какого минерала названо в честь данного учёного?	
7	Как называется месторождение бокситов, разрабатываемое в данном субъекте РФ?	
8	О каком возобновимом природном ресурсе идёт речь в тексте?	
9	Как называется космодром, расположенный в этом субъекте РФ?	

Общая сумма – 10 баллов.

Задание №3

(10 баллов)

- 1) Укажите названия географических объектов, обозначенных на фрагменте контурной карты цифрами.



1. Река Волга 15
2. Ладожское озеро 15
3. Кольский полуостров 15

- 2) На контурной карте обозначьте цифрами географические объекты в соответствии с их порядковыми номерами в списке.

Географические объекты: 4 – Балтийское море, 5 – Белое море, 6 – Баренцево море,

15 15 15

ШИФР 19016

Школьный этап всероссийской олимпиады школьников в 2023 -2024 уч. г. по географии 9 класс
7-Каспийское море, 8 – Литва, 9 – Финляндия, 10 – Казахстан

15 15 15 15

Задание №4
(16 баллов)

Определите, на банкнотах (денежных знаках) каких государств из приведённого ниже списка в разные периоды были использованы изображения, указанные в таблице. Внесите во вторую графу таблицы порядковые номера государств из списка. Государства: 1 – Китай, 2 – Канада, 3 – Новая Зеландия, 4 – Монголия, 5 – Австралийский Союз, 6 – Япония, 7 – Руанда, 8 – Узбекистан

Изображения	№ ответа
Ковры с национальным колоритом, архитектурные комплексы Бухары и Самарканда, цветок хлопчатника	8
Профиль королевы Елизаветы II, пингвин хойхо, птица киви	5
Сухэ-Батор, Чингисхан, стрельба из лука, лошади Пржевальского; юрта на повозке, запряжённой быками	4
Картины арктической природы, хоккей, королева Елизавета II, полярные гагары	2
Мао Цзэдун, панорама реки Хуанхэ в скалах, пейзаж Гималаев	1
Женщина банту на фоне вулканов Вирунга, кофейные зёрна	7
Гора Фудзи, цветение сакуры, журавли	6
Королева Елизавета II, ветка эвкалипта, созвездие Южный Крест, ветка акации, птица лирохвост; волы, перевозящие шерсть	3

25
—
25
25
25
25
25
—

МАКСИМАЛЬНО ВОЗМОЖНОЕ КОЛИЧЕСТВО БАЛЛОВ за работу: 62.

Председатели жюри:
Муртахов В.Н. Мурт
Кенниш Л.С. Кенеш
Савина А.Н. Савина

2) Назовите самые распространённые в Калининградской области породы деревьев (укажите одно название мелколиственной породы и одно название темно – хвойной породы).

3) Почему деревья на Куршской косе наклонены с запада на восток?

4) Назовите две страны, которые нужно пересечь, чтобы доехать из Калининграда до Смоленской области – ближайшей к нашему региону области Российской Федерации (на московском направлении).

5) Какие особенности условий водообмена приводят к тому, что Куршский залив является пресноводным, а Калининградский – солёным?

Задание №2.

Определите объект по описанию

Примечание для учащихся: все ответы необходимо писать в именительном падеже. Если в вопросе нужно указать название, например крупного озера, тогда указывать только его название – «Байкал», без уточнения «озеро Байкал».

Внимание! Ответы с орфографическими ошибками не засчитываются.

Внимательно прочитайте текст.

Ответьте на вопросы, связанные с текстом.

Территорию этого субъекта РФ осваивали выходцы из Новгорода, сформировавшие уникальный субэтнос знаменитых мореплавателей и мастеров деревянного зодчества. Форму парусных судов этих мореплавателей заимствовали полярные исследователи вплоть до XX в.

Административный центр этого субъекта РФ – крупный порт и промышленный центр, отмеченный на одной из денежных купюр России, со времён Ивана Грозного является важным военным и торговым форпостом страны. Город – спутник центра славится производством уникального вида продукции машиностроения.

Из известных выходцев данной земли стоит упомянуть знаменитого учёного. В честь него здесь названо единственное в этой части света промышленное месторождение самого твёрдого минерала. Также на данной территории разрабатывается месторождение бокситов. В хозяйственном отношении эту территорию именуют «цехом» продукции, производимой из ценного возобновимого природного ресурса, которым богата данная территория. Про этот субъект РФ смело можно сказать, что он расположен ближе всего к космосу благодаря космодрому, построенному на его территории.

№	Вопрос	Ответ
1	О каком субъекте РФ идёт речь?	
2-	Как называется субэтнос, представители которого, проживают на данной территории? Как называются парусные суда мореплавателей данного субэтноса?	
3		

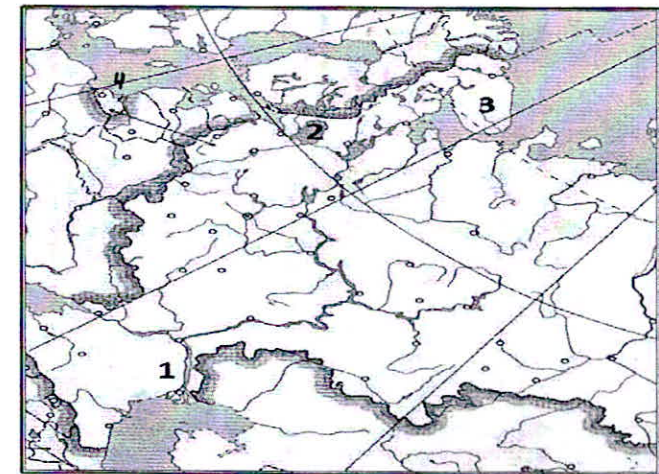
4	Укажите название города – спутника административного центра данного субъекта РФ.	
5	Укажите фамилию знаменитого российского учёного, выходца данной земли.	
6	Месторождение какого минерала названо в честь данного учёного?	
7	Как называется месторождение бокситов, разрабатываемое в данном субъекте РФ?	
8	О каком возобновимом природном ресурсе идёт речь в тексте?	
9	Как называется космодром, расположенный в этом субъекте РФ?	

Общая сумма – 10 баллов.

Задание №3

(10 баллов)

1) Укажите названия географических объектов, обозначенных на фрагменте контурной карты цифрами.



1. Река _____
 2. _____ озеро
 3. _____ полуостров

2) На контурной карте обозначьте цифрами географические объекты в соответствии с их порядковыми номерами в списке.

Географические объекты: 4 – Балтийское море, 5 – Белое море, 6 – Баренцево море,

Задание №4
(16 баллов)

Определите, на банкнотах (денежных знаках) каких государств из приведённого ниже списка в разные периоды были использованы изображения, указанные в таблице. Внесите во вторую графу таблицы порядковые номера государств из списка. Государства: 1 – Китай, 2 – Канада, 3 – Новая Зеландия, 4 – Монголия, 5 – Австралийский Союз, 6 – Япония, 7 – Руанда, 8 – Узбекистан

Изображения	№ ответа
Ковры с национальным колоритом, архитектурные комплексы Бухары и Самарканда, цветок хлопчатника	8
Профиль королевы Елизаветы II, пингвин хойхо, птица киви	3
Сухэ-Батор, Чингисхан, стрельба из лука, лошади Пржевальского; юрта на повозке, запряжённой быками	4
Картины арктической природы, хоккей, королева Елизавета II, полярные гагары	1, 2, 7, 8
Мао Цзэдун, панорама реки Хуанхэ в скалах, пейзаж Гималаев	8, 1
Женщина банту на фоне вулканов Вирунга, кофейные зёрна	7
Гора Фудзи, цветение сакуры, журавли	6
Королева Елизавета II, ветка эвкалипта, созвездие Южный Крест, ветка акации, птица лирохвост; волы, перевозящие шерсть	5

25
25
25
25
25
25
25
25

МАКСИМАЛЬНО ВОЗМОЖНОЕ КОЛИЧЕСТВО БАЛЛОВ за работу: 62.

Председатели жюри:
 Мухоморова В.Н. Мухоморова
 Комлева А.С. Комлева
 Савинов А.М. Савинов

