


Фамилия	Имя	Отчество	Фамилия	Имя	Отчество	Класс обучения	Предмет	Статус	Результат	Место
Кастева	Ксения	Николаевна	Савина	Арианна	Николаевна	5	география	Победитель	27	1
Федина	Алёна	Александровна	Савина	Арианна	Николаевна	5	география	призер	26	2
Кривенчук	Савелий	Дмитриевич	Савина	Арианна	Николаевна	5	география	призер	25	3
Лысенко	Глеб	Александрович	Савина	Арианна	Николаевна	5	география	призер	24	4
Харитиди	Алина	Денисовна	Савина	Арианна	Николаевна	5	география	участник	24	4
Паузепя	Виктория	Константиновна	Савина	Арианна	Николаевна	5	география	участник	21	5
Свириденко	Дмитрий	Владимирович	Савина	Арианна	Николаевна	5	география	участник	21	5
Рябов	Руслан	Николаевич	Савина	Арианна	Николаевна	5	география	участник	20	6
Мандрикова	Дарья	Алексеевна	Савина	Арианна	Николаевна	5	география	участник	19	7
Харланова	Анна	Ивановна	Савина	Арианна	Николаевна	5	география	участник	19	7
Кузеванов	Дмитрий	Константинович	Савина	Арианна	Николаевна	5	география	участник	18	8
Бойко	Валерия	Дмитриевна	Савина	Арианна	Николаевна	5	география	участник	17	9
Веремеенко	Александр	Георгиевич	Савина	Арианна	Николаевна	5	география	участник	17	9
Латош	Дарья	Витальевна	Савина	Арианна	Николаевна	5	география	участник	15	10
Силантьев	Владимир	Александрович	Савина	Арианна	Николаевна	5	география	участник	15	10
Сибиченко	Алиция	Максимовна	Савина	Арианна	Николаевна	5	география	участник	14	11
Алиев	Дениз	Бахрузович	Савина	Арианна	Николаевна	5	география	участник	13	12
Бойко	Михаил	Григорьевич	Савина	Арианна	Николаевна	5	география	участник	11	13
Финякин	Никита	Викторович	Савина	Арианна	Николаевна	5	география	участник	11	13
Плотников	Михаил	Анатольевич	Савина	Арианна	Николаевна	5	география	участник	9	14
Гармаш	Виталина	Витальевна	Савина	Арианна	Николаевна	5	география	участник	8	15
Звягина	Ангелина	Романовна	Савина	Арианна	Николаевна	5	география	участник	7	16



27

ШИФР 1515

Школьный этап всероссийской олимпиады школьников в 2023-2024 уч. г. по географии 5 класс

Общее время выполнения работы – 75 минут.

На задание 1 (тестовый раунд) отводится 30 минут, затем листы с ответами собираются.

На задания 2–6 (аналитический раунд) отводится 45 минут. Желаем успеха!

Тестовый раунд

Количество баллов — 20

Задание 1. Задание включает 20 вопросов, к каждому из которых предложено несколько вариантов ответов. На каждый вопрос выберите один ответ, который вы считаете наиболее полным и правильным. Обведите в кружок букву выбранного ответа

- 1.1. Как называется наука о небесных телах?  
а) история б) география в) экология  г) астрономия
- 1.2. Что такое глобус?  
а) модель Солнца  б) модель Земли в) модель шара
- 1.3. Кто открыл Америку?  
а) Фернан Магеллан  б) Христофор Колумб в) Михаил Лазарев
- 1.4. Что на плане местности обозначают зелёным цветом?  
а) низкие участки суши б) населённые пункты  в) растительность г) высокие участки суши.
- 1.5. Какое море омывает берега России?  
а) Белое б) Жёлтое  в) Северное г) Красное
- 1.6. Что в переводе с греческого языка означает слово «география»?  
 а) «землеописание» б) «изучение Земли»  
в) «изучение природы» г) «описание природы»
- 1.7. В какую из стран ты сможешь попасть, если поедешь на юг Европы?  
 а) в Грецию б) в Финляндию в) в Швейцарию г) в Великобританию
- 1.8. Какие горы находятся не в России?  
а) Кавказ б) Урал в) Алтай  г) Альпы
- 1.9. В какой стране находится город Оденсе, в котором открыт дом-музей Г.Х. Андерсена?  
 а) Швеция б) Норвегия в) Дания г) Германия
- 1.10. С какой страной Россия граничит?  
а) Германия б) Монголия в) Узбекистан  г) Армения
- 1.11. Что изучают сейсмологи?  
а) ураганы б) землетрясения  в) ледники г) озёра
- 1.12. Какой объект Всемирного наследия находится не на территории России?  
а) вулканы Камчатки  б) погост Кижы  
в) озеро Байкал г) мавзолей Тадж-Махал
- 1.13. Какой газ занимает наибольший объём в составе воздуха?  
 а) кислород б) углекислый газ в) азот г) водород
- 1.14. В какой стране находится резиденция Санта-Клауса?  
а) Исландия б) Финляндия  в) Швеция г) Норвегия
- 1.15. Выбери промежуточную сторону горизонта:

ШИФР 1515

Школьный этап всероссийской олимпиады школьников в 2023-2024 уч. г. по географии 5 класс

а) север б) северо-восток  в) восток г) юг

1.16. Кто впервые измерил и наиболее точно вычислил размеры Земли:

а) Пифагор  б) Птолемей в) Эратосфен г) Бехайм

1.17. Какой материк пересекают все меридианы Земли?

а) Африка  б) Евразия  в) Антарктида г) Австралия.

1.18. Прибор, изобретённый китайцами, способствующий развитию мореплаванию:

а) гномон  б) компас в) солнечные часы г) штурвал.

1.19. Морской путь в Индию был открыт экспедицией:

а) Марко Поло б) Х. Колумба  в) Ф. Магеллана г) Васко да Гама

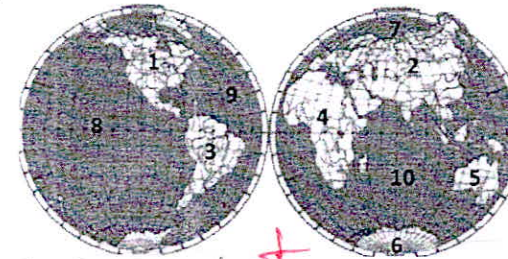
1.20. Калининградская область граничит с:

а) Литвой б) Латвией в) Германией г) Белоруссией.

Аналитический раунд 30 баллов

Задание 2 (12 баллов).

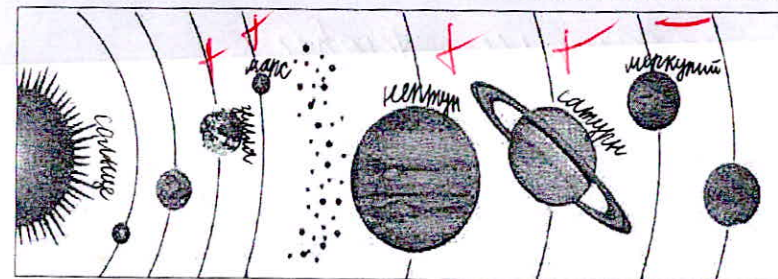
Ответьте на вопросы. В качестве ответов укажите номера материков и океанов, указанные на картосхеме.



- 1) Какой океан самый глубокий? 8
- 2) Какой материк был открыт позже других материков? 5 3
- 3) На каком материке расположена Индия? 4
- 4) Какие океаны омывают берега России? 10 7 1
- 5) Большая часть какого океана расположена в Южном полушарии?
- 6) На каком материке расположена Бразилия? 3
- 7) Какой океан самый холодный? 10
- 8) Возле берегов какого материка находится остров Мадагаскар? 2
- 9) Какой материк самый жаркий? 5
- 10) На каком материке расположено государство США? 1

Задание 3 (8 баллов)

Подпишите на схематическом рисунке названия планет Солнечной системы.



Школьный этап всероссийской олимпиады школьников в 2023 - 2024 уч. г. по географии 5 класс

## Задание 4 (5 баллов)

Пользуясь знаниями по географии, определите в каком из пяти вариантов ответа верно определён общий признак для четырёх объектов в логическом ряду и найдено правильное обоснование для лишнего элемента.

Холм – впадина – каньон – ледник – вулкан  
Варианты ответов

- А) Холм – этот объект, он имеет подошву и вершину, а все остальные – нет.  
 Б) Впадина – это отрицательная форма рельефа, а все остальные – положительные. •  
 Каньон – неровность земной поверхности, которая связана с рекой, а все остальные формы рельефа с ней не связаны.  
 В) Ледник – это объект гидросферы, а все остальные – формы рельефа.  
 Г) Вулкан – это гора, а все остальные – плоские поверхности.

## Задание 5. (5 баллов)

Пользуясь знаниями по географии, определите в каком из пяти вариантов ответа верно определён общий признак для четырёх объектов в логическом ряду и найдено правильное обоснование для лишнего элемента.

Енисей – Дунай – Хуанхэ – Миссури – Ганг  
Варианты ответов

- А) Енисей – единственная из рек, которая находится в России. Все остальные – в других странах.  
 Б) Дунай впадает в Атлантический океан, а все остальные – в Тихий океан.  
 В) Хуанхэ течёт с запада на восток, а все остальные с севера на юг.  
 Г) Миссури находится в Северной Америке, а все остальные – в Евразии.  
 Д) Ганг – это озеро, а остальные географические объекты – реки.

## Задание 6. (5 баллов).

В толковом словаре В. Даля дано определение этого слова: «Равноденник или равноденственный, под которым дни и ночи всегда равны, а широта места – нуль». Что это? —

## Задание 7. (5 баллов)

Группа туристов ушла из лагеря, когда Полярная звезда виднелась впереди. Путешественники заночевали и, проснувшись поутру, отправились обратно в лагерь. С какой стороны они должны видеть восходящее солнце и почему? —

МАКСИМАЛЬНО ВОЗМОЖНОЕ КОЛИЧЕСТВО БАЛЛОВ за работу: 60.

Председатели жюри:  
 Мудрякова В.Н. Мухоморова  
 Кошкина А.С. Кошкина  
 Севицкая А.Н. Севицкая

266

ШИФР Г516

Школьный этап всероссийской олимпиады школьников в 2023-2024 уч. г. по географии 5 класс

Общее время выполнения работы – 75 минут.

На задание 1 (тестовый раунд) отводится 30 минут, затем листы с ответами собираются.

На задания 2–6 (аналитический раунд) отводится 45 минут. Желаем успеха!

Тестовый раунд

Количество баллов — 20

Задание 1. Задание включает 20 вопросов, к каждому из которых предложено несколько вариантов ответов. На каждый вопрос выберите один ответ, который вы считаете наиболее полным и правильным. Обведите в кружок букву выбранного ответа

1.1. Как называется наука о небесных телах?

- а) история б) география в) экология г) астрономия

1.2. Что такое глобус?

- а) модель Солнца б) модель Земли в) модель шара

1.3. Кто открыл Америку?

- а) Фернан Магеллан б) Христофор Колумб в) Михаил Лазарев.

1.4. Что на плане местности обозначают зелёным цветом?

- а) низкие участки суши б) населённые пункты в) растительность г) высокие участки суши.

1.5. Какое море омывает берега России?

- а) Белое б) Жёлтое в) Северное г) Красное

1.6. Что в переводе с греческого языка означает слово «география»?

- а) «землеописание» б) «изучение Земли» в) «изучение природы» г) «описание природы»

1.7. В какую из стран ты сможешь попасть, если поедешь на юг Европы?

- а) в Грецию б) в Финляндию в) в Швейцарию г) в Великобританию

1.8. Какие горы находятся не в России?

- а) Кавказ б) Урал в) Алтай г) Альпы

1.9. В какой стране находится город Одессе, в котором открыт дом-музей Г.Х. Андерсена?

- а) Швеция б) Норвегия в) Дания г) Германия

1.10. С какой страной Россия граничит?

- а) Германия б) Монголия в) Узбекистан г) Армения

1.11. Что изучают сейсмологи?

- а) ураганы б) землетрясения в) ледники г) озёра

1.12. Какой объект Всемирного наследия находится не на территории России?

- а) вулканы Камчатки б) погост Кижи в) озеро Байкал г) мавзолей Тадж-Махал

1.13. Какой газ занимает наибольший объём в составе воздуха?

- а) кислород б) углекислый газ в) азот г) водород

1.14. В какой стране находится резиденция Санта-Клауса?

- а) Исландия б) Финляндия в) Швеция г) Норвегия

1.15. Выбери промежуточную сторону горизонта:

ШИФР Г516

Школьный этап всероссийской олимпиады школьников в 2023-2024 уч. г. по географии 5 класс

- а) север б) северо-восток в) восток г) юг

1.16. Кто впервые измерил и наиболее точно вычислил размеры Земли:

- а) Пифагор б) Птолемей в) Эратосфен г) Бехайм

1.17. Какой материк пересекают все меридианы Земли?

- а) Африка б) Евразия в) Антарктида г) Австралия.

1.18. Прибор, изобретённый китайцами, способствующий развитию мореплаванию:

- А) гномон б) компас в) солнечные часы г) штурвал.

1.19. Морской путь в Индию был открыт экспедицией:

- а) Марко Поло б) Х. Колумба в) Ф. Магеллана г) Васко да Гама

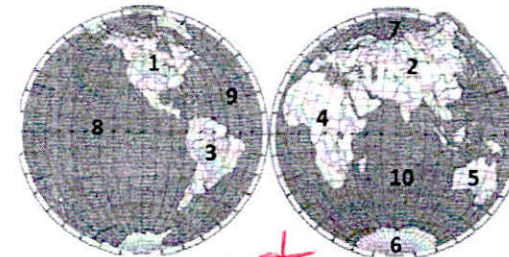
1.20. Калининградская область граничит с:

- а) Литвой б) Латвией в) Германией г) Беларуссией.

Аналитический раунд 30 баллов

Задание 2 (12 баллов).

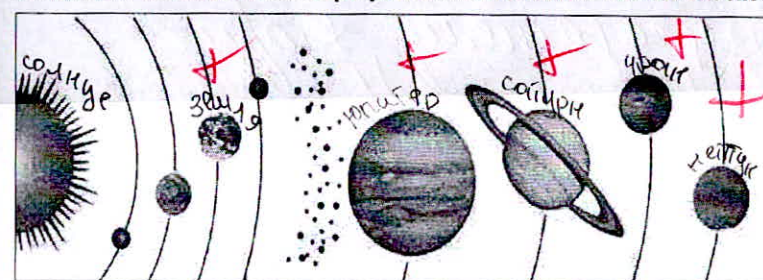
Ответьте на вопросы. В качестве ответов укажите номера материков и океанов, указанные на картосхеме.



- 1) Какой океан самый глубокий? 8 +
2) Какой материк был открыт позже других материков? 6 +
3) На каком материке расположена Индия? 4 +
4) Какие океаны омывают берега России? 7, 8, 9, 10 +
5) Большая часть какого океана расположена в Южном полушарии? 10 +
6) На каком материке расположена Бразилия? 4 -
7) Какой океан самый холодный? 4 +
8) Возле берегов какого материка находится остров Мадагаскар? 5 -
9) Какой материк самый жаркий? 4 +
10) На каком материке расположено государство США? 1 +

Задание 3 (8 баллов)

Подпишите на схематическом рисунке названия планет Солнечной системы.



Школьный этап всероссийской олимпиады школьников в 2023-2024 уч. г. по географии 5 класс

**Задание 4 (5 баллов)**

Пользуясь знаниями по географии, определите в каком из пяти вариантов ответа верно определён общий признак для четырёх объектов в логическом ряду и найдено правильное обоснование для лишнего элемента.

Холм – впадина – каньон – ледник – вулкан Варианты ответов

- А) Холм – этот объект, он имеет подошву и вершину, а все остальные – нет.  
 Б) Впадина – это отрицательная форма рельефа, а все остальные – положительные. •  
 Каньон – неровность земной поверхности, которая связана с рекой, а все остальные формы рельефа с ней не связаны.  
 В) Ледник – это объект гидросферы, а все остальные – формы рельефа.  
 Г) Вулкан – это гора, а все остальные – плоские поверхности.

**Задание 5. (5 баллов)**

Пользуясь знаниями по географии, определите в каком из пяти вариантов ответа верно определён общий признак для четырёх объектов в логическом ряду и найдено правильное обоснование для лишнего элемента.

Енисей – Дунай – Хуанхэ – Миссури – Ганг Варианты ответов

- А) Енисей – единственная из рек, которая находится в России. Все остальные – в других странах.  
 Б) Дунай впадает в Атлантический океан, а все остальные – в Тихий океан.  
 В) Хуанхэ течёт с запада на восток, а все остальные с севера на юг.  
 Г) Миссури находится в Северной Америке, а все остальные – в Евразии.  
 Д) Ганг – это озеро, а остальные географические объекты – реки.

**Задание 6. (5 баллов).**

В толковом словаре В. Даля дано определение этого слова: «Равноденник или равноденственный, под которым дни и ночи всегда равны, а широта места – нуль». Что это?

**Задание 7. (5 баллов)**

Группа туристов ушла из лагеря, когда Полярная звезда виднелась впереди. Путешественники заночевали и, проснувшись поутру, отправились обратно в лагерь. С какой стороны они должны видеть восходящее солнце и почему?

С юбой

МАКСИМАЛЬНО ВОЗМОЖНОЕ КОЛИЧЕСТВО БАЛЛОВ за работу: 60.

Григорьева Наталья Юрьевна  
 Муфтахова В.Н. Дубинина  
 Кошкина Л.С. Кошкин  
 Савина А.Н. Савин

258

ШИФР

Школьный этап всероссийской олимпиады школьников в 2023 -2024 уч. г. по географии 5 класс

Общее время выполнения работы – 75 минут.

На задание 1 (тестовый раунд) отводится 30 минут, затем листы с ответами собираются.

На задания 2 –6 (аналитический раунд) отводится 45 минут. Желаем успеха!

Тестовый раунд

Количество баллов — 20

Задание 1. Задание включает 20 вопросов, к каждому из которых предложено несколько вариантов ответов. На каждый вопрос выберите один ответ, который вы считаете наиболее полным и правильным. Обведите в кружок букву выбранного ответа

1.1. Как называется наука о небесных телах?

- a) история
- б) география
- в) экология
- г) астрономия

1.2. Что такое глобус?

- a) модель Солнца
- б) модель Земли
- в) модель шара

1.3. Кто открыл Америку?

- a) Фернан Магеллан
- б) Христофор Колумб
- в) Михаил Лазарев.

1.4. Что на плане местности обозначают зелёным цветом?

- a) низкие участки суши
- б) населённые пункты
- в) растительность
- г) высокие участки суши.

1.5. Какое море омывает берега России?

- a) Белое
- б) Жёлтое
- в) Северное
- г) Красное

1.6. Что в переводе с греческого языка означает слово «география»?

- а) «землеописание»
- б) «изучение Земли»
- в) «изучение природы»
- г) «описание природы»

1.7. В какую из стран ты сможешь попасть, если поедешь на юг Европы?

- a) в Грецию
- б) в Финляндию
- в) в Швейцарию
- г) в Великобританию

1.8. Какие горы находятся не в России?

- a) Кавказ
- б) Урал
- в) Алтай
- г) Альпы

1.9. В какой стране находится город Одессе, в котором открыт дом-музей Г.Х. Андерсена?

- a) Швеция
- б) Норвегия
- в) Дания
- г) Германия

1.10. С какой страной Россия граничит?

- a) Германия
- б) Монголия
- в) Узбекистан
- г) Армения

1.11. Что изучают сейсмологи?

- a) ураганы
- б) землетрясения
- в) ледники
- г) озёра

1.12. Какой объект Всемирного наследия находится не на территории России?

- a) вулканы Камчатки
- б) погост Кижи
- в) озеро Байкал
- г) мавзолей Тадж-Махал

1.13. Какой газ занимает наибольший объём в составе воздуха?

- а) кислород
- б) углекислый газ
- в) азот
- г) водород

1.14. В какой стране находится резиденция Санта-Клауса?

- a) Исландия
- б) Финляндия
- в) Швеция
- г) Норвегия

1.15. Выбери промежуточную сторону горизонта:

ШИФР 1502

Школьный этап всероссийской олимпиады школьников в 2023 -2024 уч. г. по географии 5 класс

- a) север
- б) северо-восток
- в) восток
- г) юг

1.16. Кто впервые измерил и наиболее точно вычислил размеры Земли:

- a) Пифагор
- б) Птолемей
- в) Эратосфен
- г) Бехайм

1.17. Какой материк пересекают все меридианы Земли?

- a) Африка
- б) Евразия
- в) Антарктида
- г) Австралия.

1.18. Прибор, изобретённый китайцами, способствующий развитию мореплаванию:

- А) гномон
- б) компас
- в) солнечные часы
- г) штурвал.

1.19. Морской путь в Индию был открыт экспедицией:

- a) Марко Поло
- б) Х. Колумба
- в) Ф. Магеллана
- г) Васко да Гама

1.20. Калининградская область граничит с:

- а) Литвой
- б) Латвией
- в) Германией
- г) Белоруссией.

Аналитический раунд 30 баллов

Задание 2 (12 баллов).

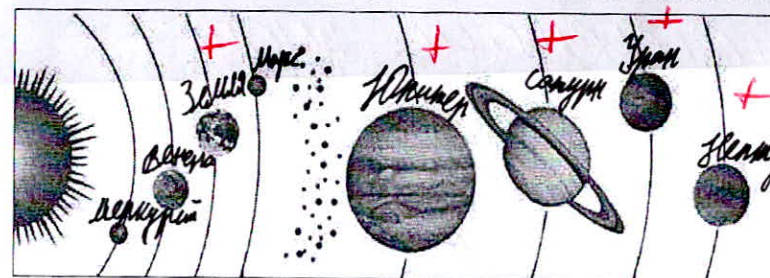
Ответьте на вопросы. В качестве ответов укажите номера материков и океанов, указанные на картосхеме.



- 1) Какой океан самый глубокий? *Тихий 4*
- 2) Какой материк был открыт позже других материков? *Евразия 2*
- 3) На каком материке расположена Индия? *Австралия 3*
- 4) Какие океаны омывают берега России? *Тихий, Индийский 7, 10*
- 5) Большая часть какого океана расположена в Южном полушарии? *Северно-ледовитый 10*
- 6) На каком материке расположена Бразилия? *Евразия 2*
- 7) Какой океан самый холодный? *Северно-ледовитый 10*
- 8) Возле берегов какого материка находится остров Мадагаскар? *Южная Америка 4*
- 9) Какой материк самый жаркий? *Африка 3*
- 10) На каком материке расположено государство США? *Северная Америка 1*

Задание 3 (8 баллов)

Подпишите на схематическом рисунке названия планет Солнечной системы.



Школьный этап всероссийской олимпиады школьников в 2023-2024 уч. г. по географии 5 класс

**Задание 4 (5 баллов)**

Пользуясь знаниями по географии, определите в каком из пяти вариантов ответа верно определён общий признак для четырёх объектов в логическом ряду и найдено правильное обоснование для лишнего элемента.

Холм – впадина – каньон – ледник – вулкан  
Варианты ответов

А) Холм – этот объект, он имеет подошву и вершину, а все остальные – нет.

Б) Впадина – это отрицательная форма рельефа, а все остальные – положительные. •  
Каньон – неровность земной поверхности, которая связана с рекой, а все остальные формы рельефа с ней не связаны.

В) Ледник – это объект гидросферы, а все остальные – формы рельефа.

Г) Вулкан – это гора, а все остальные – плоские поверхности.

**Задание 5. (5 баллов)**

Пользуясь знаниями по географии, определите в каком из пяти вариантов ответа верно определён общий признак для четырёх объектов в логическом ряду и найдено правильное обоснование для лишнего элемента.

Енисей – Дунай – Хуанхэ – Миссури – Ганг  
Варианты ответов

А) Енисей – единственная из рек, которая находится в России. Все остальные – в других странах.

Б) Дунай впадает в Атлантический океан, а все остальные – в Тихий океан.

В) Хуанхэ течёт с запада на восток, а все остальные с севера на юг.

Г) Миссури находится в Северной Америке, а все остальные – в Евразии.

Д) Ганг – это озеро, а остальные географические объекты – реки.

**Задание 6. (5 баллов).**

В толковом словаре В. Даля дано определение этого слова: «Равноденник или равноденственный, под которым дни и ночи всегда равны, а широта места – нуль».

Что это? *Экватор.*

**Задание 7. (5 баллов)**

Группа туристов ушла из лагеря, когда Полярная звезда виднелась впереди.

Путешественники заночевали и, проснувшись поутру, отправились обратно в лагерь. С какой стороны они должны видеть восходящее солнце и почему?

*С востока, потому что там всегда восходит солнце.*

МАКСИМАЛЬНО ВОЗМОЖНОЕ КОЛИЧЕСТВО БАЛЛОВ за работу: 60.

*Председатель жюри:  
Муромов В.Н.  
Колесникова Л.С.  
Савинко А.В.*